



PREFEITURA DE SANTOS



Secretaria de Educação



SANTOS

VIVENCIANDO A HISTÓRIA E A GEOGRAFIA

CURRÍCULO SANTISTA



ANOS INICIAIS - 4º ANO - MATERIAL DO ESTUDANTE

EDIÇÃO ESPECIAL

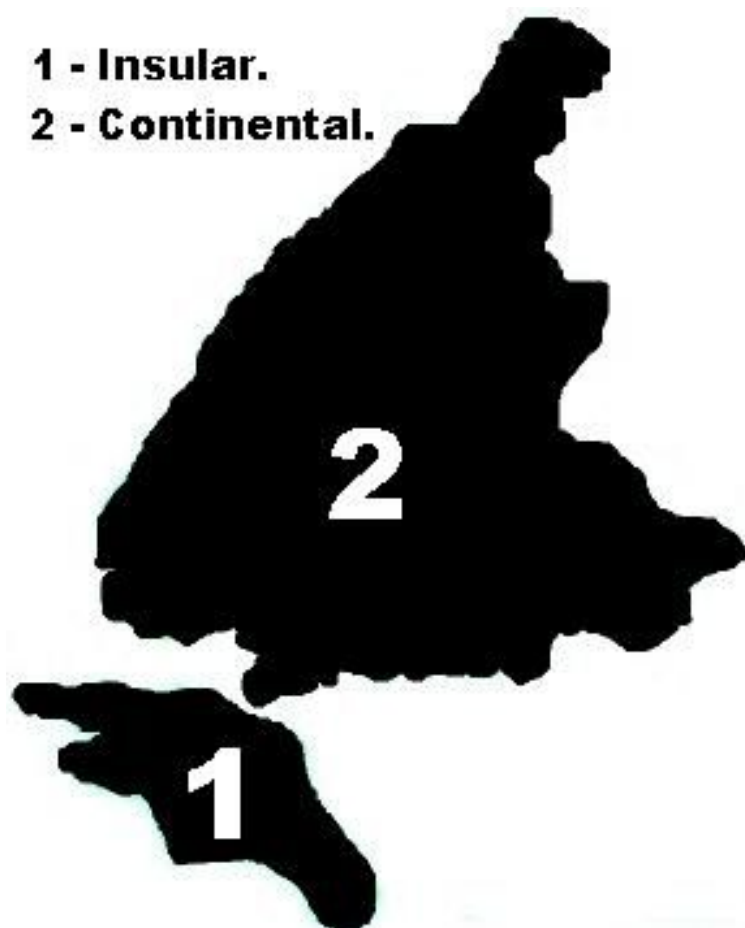
SEDUC/DEPED/COFORM/COPED

SENUTEC/SEFORM

2020

Atividade 1: Onde eu vivo

a. Vivemos na mesma cidade. No entanto, sabemos que nem todos vivem do mesmo modo. Cada bairro tem as suas características de acordo com a paisagem do local. Há crianças que vivem em lugares movimentados, cheios de carros e barulhos incômodos, e outras que vivem perto de rios, cachoeiras e morros.



Fonte disponível em:

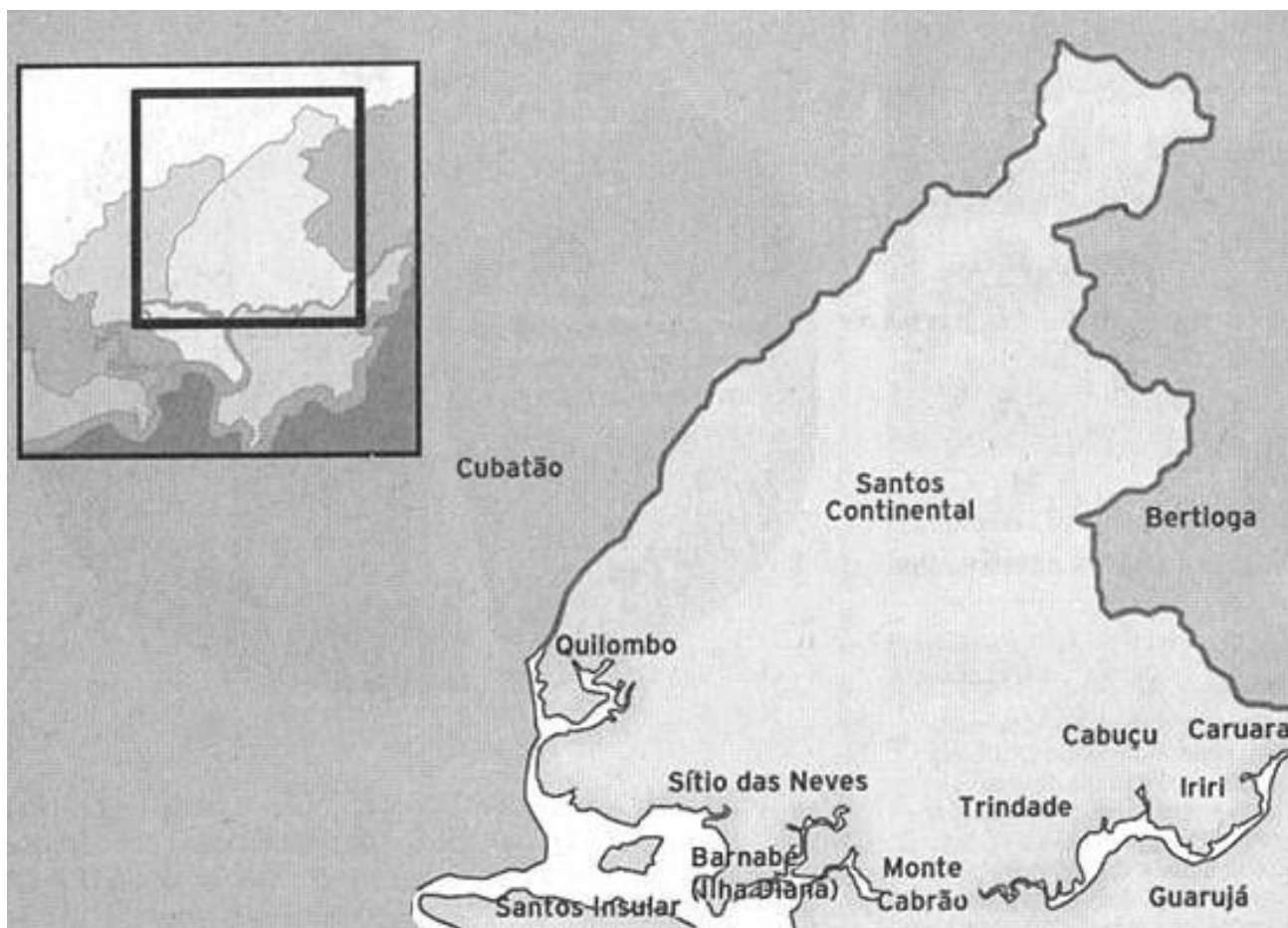
<https://pt.wikipedia.org/wiki/Santos#/media/Ficheiro:Santos-Mapa.JPG>. Acesso em: 23/07/2020.

1. E você? Em que área da cidade você vive?

2. Qual o nome do seu bairro? Identifique nos mapas a seguir.

Bairros da área continental:

Quilombo, Sítio das Neves, Guarapar, Barnab, Ilha Diana, Monte Cabro, Trindade, Cabuu, Iriri, Caruara, Piaaguera e Bagres.



Fonte disponponvel em: <https://www.novomilenio.inf.br/santos/h0230q6.htm>. Acesso em: 13/07/2020.

Descobertas a partir da fala do moradores

Assista ao vídeo sobre bairros da Área Continental.

As Riquezas Ambientais culturais da Área Continental de Santos. Documentário Ambiental e Cultural e riquezas da Área Continental de Santos, produzido para a ONG Parcel. Resultado do Projeto Ponto de Cultura Parcel, do Governo do estado de São Paulo.

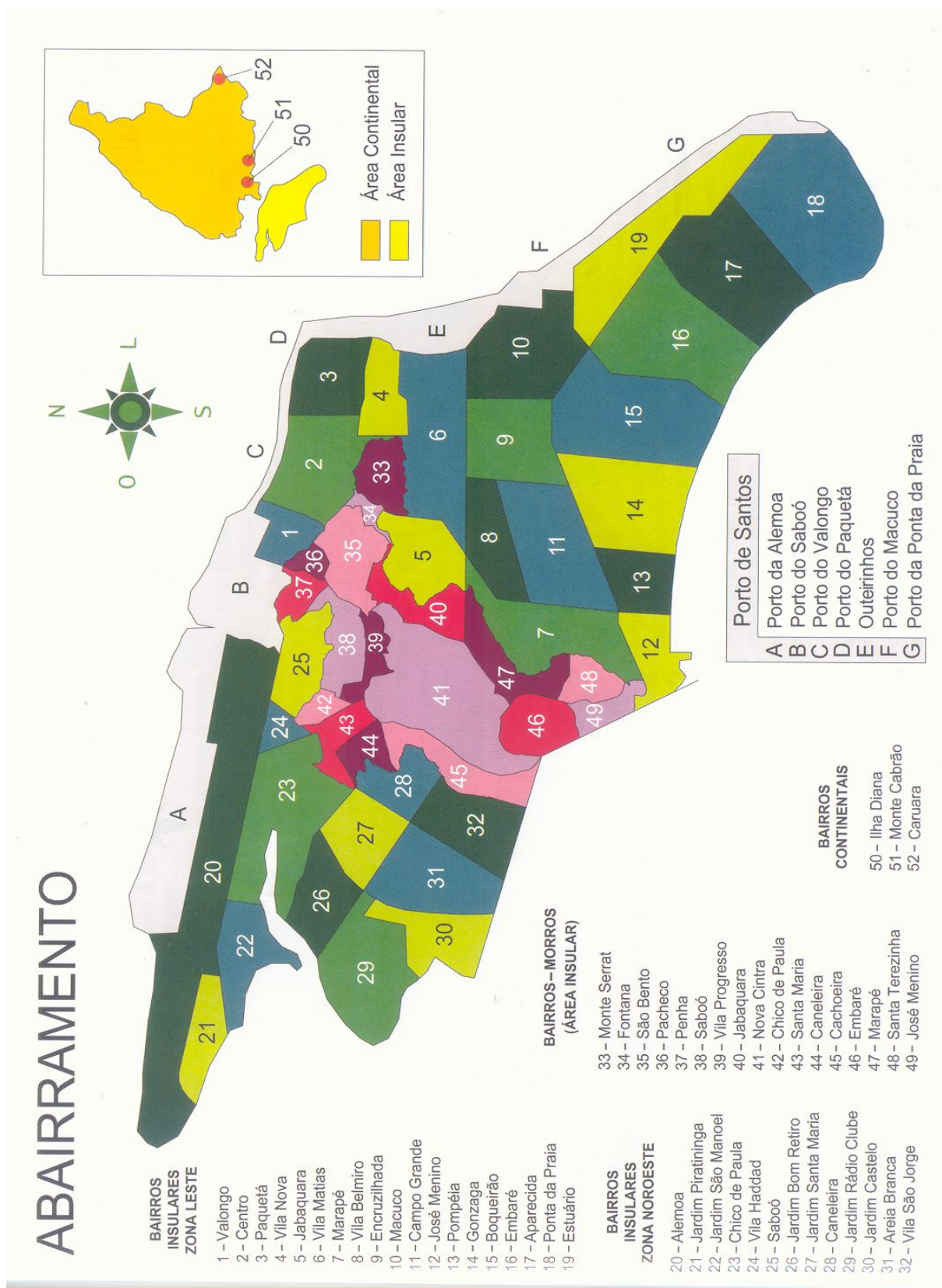
Disponível em: https://www.youtube.com/watch?v=FZUuV_gYgOO.
Acesso em: 03/09/2020.

De acordo com o vídeo, discuta com o professor e os colegas e registre suas descobertas.

- 1) Quais os bairros retratados?
- 2) Qual a principal atividade econômica da Ilha Barnabé?
- 3) Onde está localizada a Ilha Diana?
- 4) Que tipos de moradia encontramos na Ilha Diana?
- 5) Que pratos típicos encontramos no Vale do Quilombo? Onde você vive, há uma cozinheira famosa?
- 6) A moradora Geralda Saraiva de Oliveira relata sobre os animais que existiam na mata. Quais são eles? E hoje? Será que encontramos esses animais? Onde você vive há animais selvagens?
- 7) No bairro do Monte Cabirão, o que os moradores gostam de fazer para se divertir?
- 8) Qual bairro, no vídeo, tem mais infraestrutura, ou seja, serviços de saúde, educação, lazer, entre outros?
- 9) No vídeo, fala-se dos rios da região. Você saberia citar o nome de algum? Qual rio abastece as pessoas que moram no seu bairro?
- 10) Onde estão os rios de Santos?
- 11) Cite outras informações que você achou interessante?

Bairros da Área insular

A área insular está localizada na Ilha de São Vicente e é a área mais povoada.



Comparando lugares

Preencha a tabela com as características de cada lugar.

Características	Área insular	Área continental
Moradias		
Comércio		
Trânsito		
Meios de transporte		
Meio ambiente		
Lazer		

Atividade 2 - E você, habitante do litoral, como vive?

Há muito tempo, antes da chegada dos portugueses, os homens de sambaqui entraram em contato com outros povos vindos do interior do país: os indígenas. Não sabemos ao certo o que aconteceu, mas, possivelmente, os sambaqueiros foram dominados por eles.

Como os homens de sambaqui, você também vive no litoral paulista, no estado de São Paulo, na região Sudeste do Brasil. Litoral é a porção de terra que acompanha a orla marítima. Santos está localizada na parte central do litoral. Há as cidades que fazem parte do litoral sul e as cidades do litoral norte. O que nos separa do planalto é uma grande cadeia de montanhas, que chamamos de Serra do Mar.



Fonte disponível em: <https://www.novomilenio.inf.br/santos/h0102z4c.htm>. Acesso em: 05/09/2020.

a. Como percebemos o lugar

A partir das perguntas abaixo, discuta com o professor e os colegas e construa um pequeno texto com suas opiniões.

- 1) Vivemos no interior do estado ou no litoral? Como você percebe sua localização?
- 2) Ao irmos à São Paulo, precisamos atravessar a Serra do Mar. Para irmos ao planalto, você tem a sensação de subida ou descida da serra?
- 3) Quais cidades do litoral da Baixada Santista você conhece ou gostaria de visitar?
- 4) Quais as vantagens de se viver no litoral?

Registre no espaço abaixo ou nas plataformas usadas por você e seu professor:

Atividade 3- Diferentes povos formaram Santos

Além dos indígenas que já viviam aqui, dos portugueses que vieram logo depois e dos africanos escravizados, também chegaram muitos imigrantes (povos de outros países que vieram por vontade própria) e migrantes (que vieram de outros lugares do nosso país em busca de uma vida melhor). Todos esses povos formaram o que somos hoje: BRASILEIROS! E todos são importantes.

E a sua família?

Pergunte às pessoas de sua família se nasceram em Santos ou se vieram de outras regiões e até de outros países. Peça para contarem suas histórias de vida quando eram crianças. Você vai gostar de saber como as coisas mudaram.

Registre abaixo.

a. Os nativos do nosso litoral

Quando os portugueses chegaram, todo o litoral era habitado por diferentes nações com línguas e hábitos diversos. De Bertioga até Cananéia, havia os Tupiniquins, guerreiros fortes e que se tornaram aliados dos portugueses. Dali para o sul, viviam os Guaranis; ao norte de Ubatuba, os Tupinambás, ferozes inimigos dos Tupiniquins e dos portugueses, e que, nessa região, eram dominados pelos Tamoios.



Fonte: Manuela Carneiro da Cunha (org.) *Histórias dos índios no Brasil*. São Paulo, Companhia das Letras, 1998, p. 384.

c. Indígenas na Baixada Santista

Vamos assistir aos vídeos sobre a Aldeia Guarani localizada em São Vicente? Depois discuta com seu professor e amigos.



Fonte disponível em:

<http://g1.globo.com/sp/santos-regiao/jornal-tribuna-ledicao/videos/v/aldeia-paranapu-recebeu-visitantes-em-sao-vicente/5822756/>. Acesso em: 06/08/2020.

Aldeia Paranapuã:

Disponível em: <https://www.youtube.com/watch?v=CoNGTDgMjIq>.
Acesso em: 06/06/2020.

Disponível em: <https://www.youtube.com/watch?v=rH1LOm8jwNc>.
Acesso em: 05/09/2020.

A partir dos vídeos, identifique:

- Qual o maior problema enfrentado pelos indígenas?
- Em sua opinião, por que os povos originários foram expulsos das suas terras?
- O que, na cultura indígena, é importante preservar?
- Que solução você daria para os problemas sofridos?

Muitos lugares de Santos e da Baixada Santista têm nomes de origem indígena.

Pesquise e descubra os significados das palavras a seguir:

BERTIOGA	
CARUARA	
ENQUAGUAÇU	
CABUÇU	
MONGAGUÁ	
ITANHAÉM	
CUBATÃO	
PERUÍBE	
JABAQUARA	

Dica de pesquisa:

Fonte disponível em: <https://www.normaculta.com.br/palavras-de-origem-indigena/>.

Acesso em: 16/09/2020.

Atividade 4 - A Vila de Santos

Em 1500, os portugueses chegaram ao nosso país e os povos que viviam aqui passaram por grandes mudanças. Os portugueses trouxeram sua cultura e um novo modo de viver: a língua portuguesa, a religião católica e construíram vilas e cidades.

Como não acharam ouro e prata, tornaram-se comerciantes de escravos indígenas, que eram vendidos a quem precisasse de mão de obra para as plantações ou qualquer outro tipo de serviço.

Em 1532, chegou a São Vicente o português Martim Afonso de Souza.

Observe as imagens:



Fonte

disponível em: <https://sites.google.com/site/chargesnobrasil/outros-links>. Acesso em: 03/08/2020.

- a. Em sua opinião, como foi o encontro dos indígenas com os portugueses?

As representações do mundo onde vivemos se transformam de acordo com a tecnologia de cada época.



Mapa 1

Fonte: Capitania de São Vicente, 1574. Disponível em: <http://www.sp-turismo.com/sao-viceinte/albernaz.htm>. Acesso em: 07/07/2020.



Mapa 2

Fonte: Disponível em: <http://www.pimentel.jor.br/santos/santos8r.htm>. Acesso em: 05/09/2020.

Analisando documento

- 1- Que tipo de documento você acabou de ver?
- 2- Em que época cada uma das imagens foi produzida?
- 3- Na sua opinião, como foi feito o mapa n° 1?
- 4- E o mapa n° 2?
- 5- Qual dos mapas está mais próximo da realidade?

Responda no espaço abaixo ou nas plataformas usadas por você:



Da Trilha dos Tupis até a Rodovia dos Imigrantes

Antigamente, a ilha de São Vicente era conhecida pelos indígenas como Guaiaó. Os Tupis não moravam na ilha de Guaiaó; vinham apenas pescar, pegar sal e tomar banho de mar, pois moravam no planalto onde atualmente ficam Santo André e São Paulo.

A trilha dos Tupis tinha início em São Vicente (Tumiaru, na língua indígena), pelo rio, de onde saíam embarcações até um lugar, em que hoje está a cidade de Cubatão. Iniciava-se, então, a subida pela Serra.

Depois de um dia de andanças, chegava-se às nascentes do rio Tamandateí até o encontro com o córrego Anhangabaú, junto à colina em que se localizava a aldeia Piratininga, do indígena Tibiriçá, onde a cidade de São Paulo foi fundada. Depois outros caminhos foram construídos.

Hoje, há outros caminhos para ir à São Paulo, que ligam o litoral ao planalto, tais como a Rodovia Padre Anchieta e a Rodovia dos Imigrantes. A viagem é feita em duas horas no máximo e é muito utilizada tanto por caminhoneiros que embarcam seus produtos para nosso país e para o mundo pelo Porto de Santos, quanto por trabalhadores e muitos turistas que descem a serra para aproveitar nossas belezas.



c. Caminhos

Vamos fazer uma viagem comparando o presente com o passado, completando a tabela abaixo.

	PASSADO	PRESENTE
Nome do caminho		
Tempo de duração da viagem		
Visitantes do litoral		
Objetivo da viagem		
Transporte		
Condições do caminho		
Bagagem		

