

# ATIVIDADES DE MATEMÁTICA

1º ano

# CALENDÁRIO

CONSULTE TODOS OS DIAS O CALENDÁRIO E ANOTE A DATA NO CADERNO.

LEMBRE-SE: UMA DATA TEM QUE TER **DIA, MÊS E ANO**. NESSE CASO, COLOQUE TAMBÉM O DIA DA SEMANA.

**EXEMPLO:**

22 DE ABRIL DE 2020

QUARTA-FEIRA

# CALENDÁRIO - 2020

## Janeiro

D	S	T	Q	Q	S	S
			1	2	3	4
5	6	7	8	9	10	11
12	13	14	15	16	17	18
19	20	21	22	23	24	25
26	27	28	29	30	31	

## Fevereiro

D	S	T	Q	Q	S	S
						1
2	3	4	5	6	7	8
9	10	11	12	13	14	15
16	17	18	19	20	21	22
23	24	25	26	27	28	29

## Março

D	S	T	Q	Q	S	S
1	2	3	4	5	6	7
8	9	10	11	12	13	14
15	16	17	18	19	20	21
22	23	24	25	26	27	28
29	30	31				

## Abril

D	S	T	Q	Q	S	S
			1	2	3	4
5	6	7	8	9	10	11
12	13	14	15	16	17	18
19	20	21	22	23	24	25
26	27	28	29	30		

## Maio

D	S	T	Q	Q	S	S
					1	2
3	4	5	6	7	8	9
10	11	12	13	14	15	16
17	18	19	20	21	22	23
24	25	26	27	28	29	30
31						

## Junho

D	S	T	Q	Q	S	S
	1	2	3	4	5	6
7	8	9	10	11	12	13
14	15	16	17	18	19	20
21	22	23	24	25	26	27
28	29	30				

## Julho

D	S	T	Q	Q	S	S
			1	2	3	4
5	6	7	8	9	10	11
12	13	14	15	16	17	18
19	20	21	22	23	24	25
26	27	28	29	30	31	

## Agosto

D	S	T	Q	Q	S	S
						1
2	3	4	5	6	7	8
9	10	11	12	13	14	15
16	17	18	19	20	21	22
23	24	25	26	27	28	29
30	31					

## Setembro

D	S	T	Q	Q	S	S
			1	2	3	4
5	6	7	8	9	10	11
12	13	14	15	16	17	18
19	20	21	22	23	24	25
26	27	28	29	30		

## Outubro

D	S	T	Q	Q	S	S
				1	2	3
4	5	6	7	8	9	10
11	12	13	14	15	16	17
18	19	20	21	22	23	24
25	26	27	28	29	30	31

## Novembro

D	S	T	Q	Q	S	S
1	2	3	4	5	6	7
8	9	10	11	12	13	14
15	16	17	18	19	20	21
22	23	24	25	26	27	28
29	30					

## Dezembro

D	S	T	Q	Q	S	S
			1	2	3	4
5	6	7	8	9	10	11
12	13	14	15	16	17	18
19	20	21	22	23	24	25
26	27	28	29	30	31	

# ATIVIDADE 1

É IMPORTANTE ORGANIZARMOS O NOSSO DIA!

IMAGINE QUE VOCÊ TEM AS ATIVIDADES ABAIXO PARA FAZER AMANHÃ. O QUE PODE FAZER DE MANHÃ? E À TARDE? E À NOITE?

COPIE A TABELA AO LADO NO CADERNO E ANOTE O QUE PODE FAZER EM CADA PERÍODO.

JOGOS

LEITURA

ESTUDO

TELEVISÃO

QUINTA-FEIRA


MANHÃ

TARDE

NOITE

# ATIVIDADE 2


1 - SUELI COMEÇOU A PINTAR ALGUMAS FIGURAS SEGUINDO UM PADRÃO QUE ESCOLHEU. QUAL É O PADRÃO DE CORES QUE ELA USOU?



- ( ) VERDE, AMARELO
- ( ) VERMELHO, AZUL
- ( ) AZUL, VERMELHO
- ( ) VERMELHO, AMARELO

# ATIVIDADE 2A

COPIE AS FIGURAS NO CADERNO E COMPLETE A PINTURA, SEGUINDO O PADRÃO ESTABELECIDO PELA SUELI.

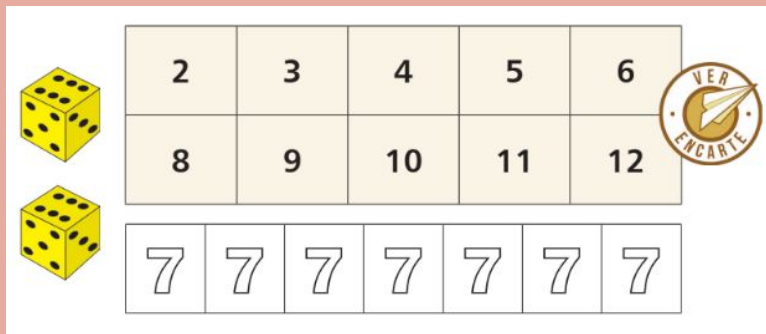


# MÃO NA MASSA

## JOGO PINTANDO O SETE

### MATERIAL:

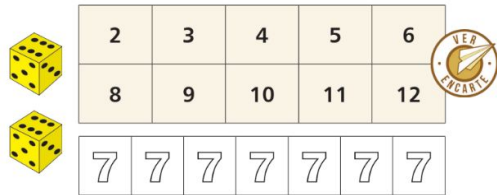
- 2 DADOS NUMERADOS DE 1 A 6.
- LÁPIS DE COR.
- FOLHA COM OS NÚMEROS PARA SEREM RISCADOS E OS “SETES” PARA SEREM PINTADOS (UM PARA CADA PARTICIPANTE).



VOCÊ PODE IMPRIMIR O ARQUIVO PRONTO OU FAZER EM UM PAPEL OU ATÉ NO CADERNO DA CRIANÇA.

# MÃO NA MASSA

## JOGO PINTANDO O SETE



**NÚMERO DE JOGADORES: 2 OU MAIS.**

**REGRAS:**

- O PRIMEIRO JOGADOR LANÇA OS DOIS DADOS, SOMA OS PONTOS OBTIDOS E RISCA O NÚMERO OBTIDO NA SUA FOLHA. SE O TOTAL FOR 7, DEVERÁ PINTAR UM DOS SETES DA SUA FOLHA.
- OS PRÓXIMOS JOGADORES DEVERÃO FAZER O MESMO.
- CASO O JOGADOR OBTENHA, EM UMA JOGADA, UM TOTAL QUE JÁ FOI RISCADO, DEVERÁ PASSAR A VEZ.
- GANHA O JOGO QUEM CONSEGUIR RISCAR TODOS OS NÚMEROS PRIMEIRO.
- O JOGADOR QUE PINTAR TODOS OS “SETES” SAI DO JOGO.




# ATIVIDADE 3

DIA DO DESAFIO!


QUEM É QUEM?

- ANA É MAIS BAIXA QUE PAULO E MAIS ALTA QUE MARINA.
- JOÃO NÃO É O MAIS ALTO DA TURMA.
- MARINA É MAIS BAIXA QUE ANA.
- PAULO É O MAIS ALTO DA TURMA.



# ATIVIDADE 4

OLHE AS TAMPINHAS QUE ESTÃO NO QUADRO.



1 - VOCÊ ACHA QUE HÁ MAIS TAMPINHAS VERMELHAS OU VERDES?

2 - AGORA, CONTE E RESPONDA:

A - QUANTAS SÃO AS VERDES?

B - E AS VERMELHAS?

3 - O QUE HÁ MAIS: TAMPINHAS VERDES OU VERMELHAS?

# ATIVIDADE 5

VAMOS CONTAR?

COPIE A TABELA NO CADERNO E REGISTRE QUANTOS GARFOS E QUANTAS COLHERES HÁ NA SUA CASA.


GARFOS	COLHERES

RESPONDA:

- 1- QUANTOS SÃO OS GARFOS?
- 2 - QUANTAS SÃO AS COLHERES?
- 3 - HÁ A MESMA QUANTIDADE DE GARFOS E COLHERES?
- 4 - O QUE HÁ MAIS: GARFOS OU COLHERES?
- 5 - QUANTOS(A) A MAIS?

# ATIVIDADE 6

OBSERVE A IMAGEM E, DEPOIS, RESPONDA.



SE ZEZINHO SEGUIR EM FRENTE  
E VIRAR À ESQUERDA, A QUE  
LUGAR ELE IRÁ CHEGAR?

( ) À ESCOLA.

( ) AO MERCADO.

# ATIVIDADE 7

VAMOS BRINCAR DE DETETIVE? DESCUBRA OS NÚMEROS DESAPARECIDOS.

0	1	2	3		5	6	7	8	
10	11		13	14	15		17	18	19
	21	22		24		26	27		29