





UME PROFESSORA EMÍLIA MARIA REIS

ANO: 2º ANO COMPONENTE CURRICULAR: INTEGRADO

PROFESSORES: DANIELLE, IZABEL, MICHELLY, THAIS.

PERÍODO DE 31/05 A 11/06

ROTEIRO DE ESTUDO

DATA	ATIVIDADE	ORIENTAÇÃO
31/05	ATIVIDADE DE LÍNGUA PORTUGUESA CADERNO	<p><u>INTERPRETANDO O TEXTO:</u></p> <p>BATATINHA QUANDO NASCE ESPALHA A RAMA PELO CHÃO MENININHA QUANDO DORME PÕE A MÃO NO CORAÇÃO</p> <p>RESPONDA ÀS QUESTÕES ABAIXO NO CADERNO:</p> <p>A) COPIE A QUADRINHA NO CADERNO. B) CIRCULE AS PALAVRAS QUE RIMAM. C) QUEM COLOCOU A MÃO NO CORAÇÃO? D) O QUE ACONTECE QUANDO A BATATINHA NASCE?</p>
31/05	ATIVIDADE DE MATEMÁTICA CADERNO	<p><u>FAZENDO COMPRAS...</u></p> <p>OBSERVE OS PREÇOS DOS PRODUTOS E RESPONDA:</p> <div style="display: flex; justify-content: space-around; align-items: center;"> <div style="border: 1px solid black; padding: 5px; text-align: center;"> <p>CHINELO</p>  <p>RS\$15,00</p> </div> <div style="border: 1px solid black; padding: 5px; text-align: center;"> <p>CD</p>  <p>RS\$3,00</p> </div> <div style="border: 1px solid black; padding: 5px; text-align: center;"> <p>CADERNO</p>  <p>RS\$5,00</p> </div> <div style="border: 1px solid black; padding: 5px; text-align: center;"> <p>BOLA</p>  <p>RS\$8,00</p> </div> </div>

31/05

- A) O CADERNO VALE: \_\_\_\_\_  
B) A BOLA VALE: \_\_\_\_\_  
C) O CHINELO VALE: \_\_\_\_\_  
D) O CD VALE: \_\_\_\_\_  
E) QUAL DELES VALE MAIS? \_\_\_\_\_  
F) QUAL DELES VALE MENOS? \_\_\_\_\_  
G) QUANTO EU GASTEI COMPRANDO: CHINELO+BOLA? \_\_\_\_\_  
H) QUANTO EU GASTEI COMPRANDO: CD+CADERNO? \_\_\_\_\_  
I) QUANTO EU GASTEI AO TODO? \_\_\_\_\_

01/06

ATIVIDADE DE  
LÍNGUA PORTUGUESA  
CADERNO

SEPARANDO PALAVRAS:

A) A TECLA DE ESPAÇO DO COMPUTADOR ESTAVA QUEBRADA. VEJA COMO O TEXTO FICOU SEM ESPAÇO ENTRE AS PALAVRAS:



BATATINHAQUANDONASCE  
ESPALHAARAMAPELOCHÃO  
MENININHAQUANDODORME  
PÕEAMÃONOCORAÇÃO

B) COPIE A QUADRINHA NO CADERNO, INCLUINDO OS ESPAÇOS ENTRE AS PALAVRAS.

01/06

ATIVIDADE DE  
MATEMÁTICA  
CADERNO

CONTANDO OS PONTOS:



01/06

OBSERVE NOS QUADROS ACIMA OS TIMES **A** E **B**, APENAS TRÊS JOGADORES DE CADA EQUIPE MARCARAM PONTOS. VEJA QUANTOS PONTOS CADA UM FEZ E RESPONDA:


- A) QUANTOS PONTOS O TIME **A** MARCOU? \_\_\_\_\_  
 B) QUANTOS PONTOS O TIME **B** MARCOU? \_\_\_\_\_  
 C) QUAL TIME FEZ MAIS PONTOS? \_\_\_\_\_  
 D) QUAL JOGADOR MAIS PONTUOU? A QUE TIME ELE PERTENCE?  
 E) QUAL JOGADOR MENOS PONTUOU? A QUE TIME ELE PERTENCE?

02/06

ATIVIDADE DE  
LÍNGUA PORTUGUESA  
CADERNO

SÍLABAS:

PINTE OS QUADRINHOS DAS SÍLABAS NECESSÁRIAS PARA FORMAR PALAVRAS DAS FIGURAS EM DESTAQUE.

					
VA BE BA	LA VI JU	O A U	LI GO FI	TO PO RE	TI FA VO
DI NA XI	TE GO RE	LI FE CA	DE RI VE	FA RO CU	LE PA NE
GA LO SU	FU NO MA	BU MI TE	LA SU CA	DA VI DO	CA LA RA
					
U E A	PO MU FA	LO A JI	SA RE BO	CA GI DE	FO GA RE
GE VI TA	GO LA FU	BO RE MA	MI TU NE	PA TI RO	LU SI FA
PI ÃO SO	DO SE RO	NE FU CA	JA TE PE	SU NE TE	XI ZA DA

02/06

ATIVIDADE DE MATEMÁTICA  
CADERNO

ADIÇÃO

REALIZE AS ADIÇÕES ABAIXO:

<b>17 + 2</b>	a) <b>13 + 4</b>	b) <b>22 + 5</b>	c) <b>19 + 6</b>	d) <b>25 + 3</b>																																								
<table border="1" style="border-collapse: collapse; width: 40px; height: 40px;"> <tr><td style="text-align: center;">D</td><td style="text-align: center;">U</td></tr> <tr><td style="text-align: center;">1</td><td style="text-align: center;">7</td></tr> <tr><td style="text-align: center;">+</td><td style="text-align: center;">2</td></tr> <tr><td style="text-align: center;">1</td><td style="text-align: center;">9</td></tr> </table>	D	U	1	7	+	2	1	9	<table border="1" style="border-collapse: collapse; width: 40px; height: 40px;"> <tr><td style="text-align: center;">D</td><td style="text-align: center;">U</td></tr> <tr><td style="text-align: center;"> </td><td style="text-align: center;"> </td></tr> <tr><td style="text-align: center;">+</td><td style="text-align: center;"> </td></tr> <tr><td style="text-align: center;"> </td><td style="text-align: center;"> </td></tr> </table>	D	U			+				<table border="1" style="border-collapse: collapse; width: 40px; height: 40px;"> <tr><td style="text-align: center;">D</td><td style="text-align: center;">U</td></tr> <tr><td style="text-align: center;"> </td><td style="text-align: center;"> </td></tr> <tr><td style="text-align: center;">+</td><td style="text-align: center;"> </td></tr> <tr><td style="text-align: center;"> </td><td style="text-align: center;"> </td></tr> </table>	D	U			+				<table border="1" style="border-collapse: collapse; width: 40px; height: 40px;"> <tr><td style="text-align: center;">D</td><td style="text-align: center;">U</td></tr> <tr><td style="text-align: center;"> </td><td style="text-align: center;"> </td></tr> <tr><td style="text-align: center;">+</td><td style="text-align: center;"> </td></tr> <tr><td style="text-align: center;"> </td><td style="text-align: center;"> </td></tr> </table>	D	U			+				<table border="1" style="border-collapse: collapse; width: 40px; height: 40px;"> <tr><td style="text-align: center;">D</td><td style="text-align: center;">U</td></tr> <tr><td style="text-align: center;"> </td><td style="text-align: center;"> </td></tr> <tr><td style="text-align: center;">+</td><td style="text-align: center;"> </td></tr> <tr><td style="text-align: center;"> </td><td style="text-align: center;"> </td></tr> </table>	D	U			+			
D	U																																											
1	7																																											
+	2																																											
1	9																																											
D	U																																											
+																																												
D	U																																											
+																																												
D	U																																											
+																																												
D	U																																											
+																																												
e) <b>32 + 4</b>	f) <b>31 + 7</b>	g) <b>14 + 25</b>	h) <b>16 + 12</b>																																									
<table border="1" style="border-collapse: collapse; width: 40px; height: 40px;"> <tr><td style="text-align: center;">D</td><td style="text-align: center;">U</td></tr> <tr><td style="text-align: center;"> </td><td style="text-align: center;"> </td></tr> <tr><td style="text-align: center;">+</td><td style="text-align: center;"> </td></tr> <tr><td style="text-align: center;"> </td><td style="text-align: center;"> </td></tr> </table>	D	U			+				<table border="1" style="border-collapse: collapse; width: 40px; height: 40px;"> <tr><td style="text-align: center;">D</td><td style="text-align: center;">U</td></tr> <tr><td style="text-align: center;"> </td><td style="text-align: center;"> </td></tr> <tr><td style="text-align: center;">+</td><td style="text-align: center;"> </td></tr> <tr><td style="text-align: center;"> </td><td style="text-align: center;"> </td></tr> </table>	D	U			+				<table border="1" style="border-collapse: collapse; width: 40px; height: 40px;"> <tr><td style="text-align: center;">D</td><td style="text-align: center;">U</td></tr> <tr><td style="text-align: center;"> </td><td style="text-align: center;"> </td></tr> <tr><td style="text-align: center;">+</td><td style="text-align: center;"> </td></tr> <tr><td style="text-align: center;"> </td><td style="text-align: center;"> </td></tr> </table>	D	U			+				<table border="1" style="border-collapse: collapse; width: 40px; height: 40px;"> <tr><td style="text-align: center;">D</td><td style="text-align: center;">U</td></tr> <tr><td style="text-align: center;"> </td><td style="text-align: center;"> </td></tr> <tr><td style="text-align: center;">+</td><td style="text-align: center;"> </td></tr> <tr><td style="text-align: center;"> </td><td style="text-align: center;"> </td></tr> </table>	D	U			+												
D	U																																											
+																																												
D	U																																											
+																																												
D	U																																											
+																																												
D	U																																											
+																																												

03/06

**FERIADO**

**SUSPENSÃO DE ATIVIDADES**

04/06

**PONTO FACULTATIVO**

**SUSPENSÃO DE ATIVIDADES**

07/06

ATIVIDADE DE LÍNGUA PORTUGUESA  
CADERNO

ESCRITA

ENUMERE OS NOMES DE ACORDO A FIGURA CORRESPONDENTE E, DEPOIS, ESCREVA-OS:

	1		2		3		4		5
	6		7		8		9		10
	11		12		13		14		15
ROBÔ		BOTE		PERA		VASO		BOLA	
FACA		CAJU		BOCA		SINO		BOLO	
JIPE		REDE		MOTO		BEBÊ		BOTA	

07/06

ATIVIDADE DE MATEMÁTICA CADERNO

SUBTRAÇÃO

REALIZE AS SUBTRAÇÕES ABAIXO:

<b>38 - 15</b>	a) <b>38 - 5</b>	b) <b>27 - 15</b>	c) <b>46 - 5</b>	d) <b>48 - 27</b>																																								
<table border="1"><tr><td></td><td></td></tr><tr><td>3</td><td>8</td></tr><tr><td>-</td><td>1 5</td></tr><tr><td></td><td>2 3</td></tr></table>			3	8	-	1 5		2 3	<table border="1"><tr><td>D</td><td>U</td></tr><tr><td></td><td></td></tr><tr><td>-</td><td></td></tr><tr><td></td><td></td></tr></table>	D	U			-				<table border="1"><tr><td>D</td><td>U</td></tr><tr><td></td><td></td></tr><tr><td>-</td><td></td></tr><tr><td></td><td></td></tr></table>	D	U			-				<table border="1"><tr><td>D</td><td>U</td></tr><tr><td></td><td></td></tr><tr><td>-</td><td></td></tr><tr><td></td><td></td></tr></table>	D	U			-				<table border="1"><tr><td>D</td><td>U</td></tr><tr><td></td><td></td></tr><tr><td>-</td><td></td></tr><tr><td></td><td></td></tr></table>	D	U			-			
3	8																																											
-	1 5																																											
	2 3																																											
D	U																																											
-																																												
D	U																																											
-																																												
D	U																																											
-																																												
D	U																																											
-																																												
e) <b>74 - 42</b>	f) <b>48 - 23</b>	g) <b>87 - 53</b>	h) <b>76 - 45</b>																																									
<table border="1"><tr><td>D</td><td>U</td></tr><tr><td></td><td></td></tr><tr><td>-</td><td></td></tr><tr><td></td><td></td></tr></table>	D	U			-				<table border="1"><tr><td>D</td><td>U</td></tr><tr><td></td><td></td></tr><tr><td>-</td><td></td></tr><tr><td></td><td></td></tr></table>	D	U			-				<table border="1"><tr><td>D</td><td>U</td></tr><tr><td></td><td></td></tr><tr><td>-</td><td></td></tr><tr><td></td><td></td></tr></table>	D	U			-				<table border="1"><tr><td></td><td></td></tr><tr><td></td><td></td></tr><tr><td>-</td><td></td></tr><tr><td></td><td></td></tr></table>					-												
D	U																																											
-																																												
D	U																																											
-																																												
D	U																																											
-																																												
-																																												

08/06

ATIVIDADE DE LÍNGUA PORTUGUESA LIVRO PÁGS: 102 E 103.

USO DAS LETRAS C E G

COMPLETE A TABELA UTILIZANDO PALAVRAS EM QUE AS LETRAS C OU G REPRESENTAM OS MESMOS SONS DAS PALAVRAS INDICADAS.

08/06

ATIVIDADE DE MATEMÁTICA CADERNO

SEQUÊNCIA NÚMERICA

COMPLETE A SEQUÊNCIA NÚMERICA DE 1 A 50:

<b>1</b>				<b>5</b>				<b>9</b>	<b>10</b>
<b>11</b>	<b>12</b>						<b>18</b>		<b>20</b>
<b>21</b>				<b>25</b>					<b>30</b>
<b>31</b>	<b>32</b>						<b>38</b>		<b>40</b>
<b>41</b>				<b>45</b>					<b>50</b>

09/06	LIVRO DE CIÊNCIAS PÁGS: 56, 57, 59, 60 E 61	<u>AS PLANTAS E O AMBIENTE</u>  CONVERSA INFORMAL SOBRE A IMPORTÂNCIA DAS PLANTAS, SUAS UTILIDADES E O COMO DEVEMOS PRESERVÁ-LAS. APÓS A LEITURA DO TEXTO RESPONDER AS QUESTÕES DA PÁGINA 61.
09/06	LIVRO DE GEOGRAFIA PÁGS: 34, 35, 36 E 37	<u>REPRESENTANDO OS LUGARES</u>  OBSERVE ATENTAMENTE A ILUSTRAÇÃO DO LIVRO (PÁGS: 34 E 35) DEPOIS, COM A AJUDA DE UM ADULTO, RESPONDA AS QUESTÕES DO LIVRO
10/06	LIVRO DE HISTÓRIA PÁGS: 26 E 27	<u>RESOLVENDO CONFLITOS</u>  SE POR ALGUM MOTIVO, NOS DESENTENDAMOS COM UMA PESSOA É IMPORTANTE RESOLVER A SITUAÇÃO PARA MANTERMOS A BOA CONVIVÊNCIA. CONVERSAR É UMA MANEIRA DE RESOLVER CONFLITOS. VAMOS ACOMPANHAR A LEITURA DO LIVRO E RESPONDER AS QUESTÕES SOBRE O TEMA.
10/06	LIVRO DE HISTÓRIA PÁGS: 28 E 29	<u>HISTÓRIA EM QUADRINHOS</u>  COM A AJUDA DE UM ADULTO, LEIA O TRECHO DA HISTÓRIA EM QUADRINHOS: "TROPEÇO" DE MAURICIO DE SOUSA E RESPONDA AS QUESTÕES DA PÁG: 29
11/06	ATIVIDADES DE ARTES, INGLÊS E EDUCAÇÃO FÍSICA	HOJE O DIA SERÁ DEDICADO ÀS ATIVIDADES DOS PROFESSORES ESPECIALISTAS. APROVEITEM E DIVIRTAM-SE!

**AOS RESPONSÁVEIS:**

- Esse roteiro refere-se ao período: de 31/05 a 11/06

- Lembrando que é muito importante manter a rotina de estudo. Sugerimos um roteiro diário, que poderá ser adequado pela criança e a família, respeitando as condições de tempo.
- Evite induzir a criança à resposta ou fazer as atividades por ela. Não se trata de quantificar as atividades, mas sim de uma oportunidade para que a criança construa sua aprendizagem a partir dos conhecimentos que já tem.
- A cada dia antes das atividades propostas recomendamos uma leitura.
- As crianças no período de alfabetização escrevem de acordo com as ideias que têm sobre a escrita naquele momento, por isso temos que lembrar que a criança vai estar pensando na escrita e que nesse momento suas tentativas e reflexões são mais importantes que o acerto.