



**Prefeitura de Santos**  
**Secretaria de Educação**



ROTEIRO DE ESTUDOS/ATIVIDADES

U.M.E OSWALDO JUSTO

ANOS: 3º COMPONENTE CURRICULAR: INTEGRADO

PROFESSORES: WILLIAM, CLÁUDIA, RITA

PERÍODO: 21/03 A 01/04/2022

ALUNO: \_\_\_\_\_ SÉRIE: \_\_\_\_\_

SUA CASA, NOSSO MUNDO:

AS PESSOAS PRECISAM DE UMA CASA PARA MORAR. A CASA NOS PROTEGE E NELA VIVEM AS PESSOAS QUE MAIS AMAMOS, SUA CASA FICA EM UMA RUA E TEM UM NÚMERO NELA.

ATUALMENTE, DEVIDO AO CORONAVÍRUS, TEMOS QUE FICAR EM CASA E SÓ SAIR EM CASO DE NECESSIDADE PARA EVITAR QUE NÓS E A NOSSA FAMÍLIA CONTRAIAM O CORONAVÍRUS.

ME CONTE, PODE ESCREVER NO SEU CADERNO:

1) QUAL É O NOME DA SUA RUA E O NÚMERO DA SUA CASA:

R: \_\_\_\_\_

2) OS NOMES DAS PESSOAS QUE MORAM NA SUA CASA:


R: \_\_\_\_\_

BAIRRO:

O BAIRRO É UMA PARTE DA CIDADE, NELE EXISTEM RUAS CASAS, PRAÇAS, PADARIAS, FARMÁCIAS, ESCOLAS E MUITAS OUTRAS COISAS.

3) ESCREVA O NOME DO SEU BAIRRO E FAÇA UM BONITO DESENHO DE COMO ELE É:

BAIRRO: \_\_\_\_\_



CIDADE:

A NOSSA ESCOLA FICA NA CIDADE DE **SANTOS**, DENTRO DA CIDADE EXISTEM OS BAIRROS E DENTRO DOS BAIRROS EXISTEM AS RUAS. A NOSSA CIDADE É LINDA!

A CIDADE DE SANTOS ATRAI MUITOS TURÍSTAS QUE VISITAM A CIDADE PARA PASSEAR.

4) DESENHE UM PONTO TURÍSTICO DE SANTOS E ESCREVA NOME:

PONTO

TURÍSTICO: \_\_\_\_\_



ESTADO:

NÓS MORAMOS NO ESTADO DE SÃO PAULO. DENTRO DO ESTADO EXISTEM VÁRIAS CIDADES COMO A NOSSA.

O ESTADO DE **SÃO PAULO** ESTÁ DENTRO DO NOSSO PAÍS. O NOSSO PAÍS É O **BRASIL**.

5) VAMOS COMPLETAR E APRENDER?

DENTRO DO ESTADO DE SÃO PAULO EXISTEM VÁRIAS CIDADES, INCLUSIVE A NOSSA QUE SE CHAMA: \_\_\_\_\_

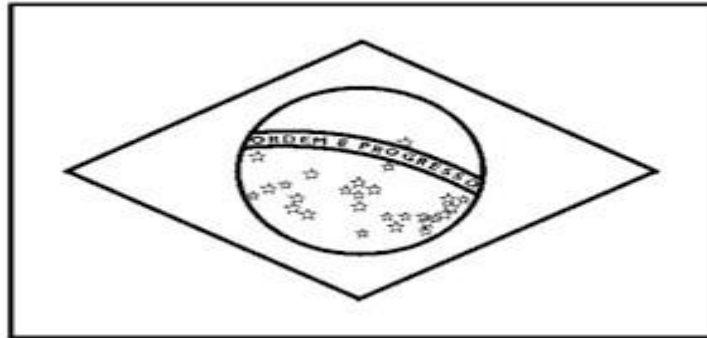
DENTRO DO NOSSO PÁISQUE SE CHAMA: \_\_\_\_\_

EXISTEM VÁRIOS ESTADOS, INCLUSIVE O NOSSO QUE SE CHAMA: \_\_\_\_\_.

### **BRASIL**

O NOME OFICIAL DO NOSSO PAÍS É REPÚBLICA FEDERATIVA DO BRASIL. O NOSSO PAÍS FICA DENTRO DO PLANETA TERRA.

PINTE BEM BONITO A NOSSA BANDEIRA.



6) ESCREVA AS CORES DA NOSSA BANDEIRA EM ORDEM ALFABÉTICA:

---

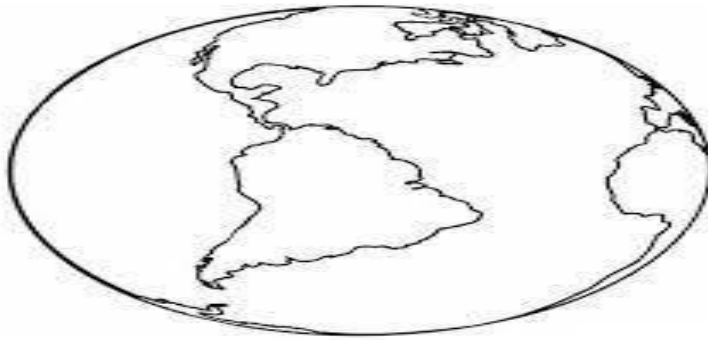
### **PLANETA TERRA**

NÓS VIVEMOS NO PLANETA TERRA QUE TAMBÉM É CONHECIDO COMO MUNDO, PLANETA AZUL E PLANETA ÁGUA.

SE OBSERVÁSSEMOS NOSSO PLANETA DO ESPAÇO VERÍAMOS PARTES EM TONS DE MARROM, VERDE E BRANCO. ESSAS PARTES SÃO OS COTINENTES.

TAMBÉM VERÍAMOS A COR AZUL QUE CORRESPONDE AOS MARES E OCEANOS.

7) PINTE BEM LINDO O NOSSO PLANETA:



PLANETA TERRA



A PRIMEIRA IMAGEM CORRESPONDE AO PLANETA TERRA, VISTO POR SATÉLITES ARTIFICIAIS ENVIADOS AO ESPAÇO PELO HOMEM.

A SEGUNDA IMAGEM É O GLOBO TERRESTRE QUE CORRESPONDE FIELMENTE AO PLANETA TERRA, MAS EM MINIATURA.

A TERCEIRA IMAGEM É O PLANISFÉRIO, QUE É A REPRESENTAÇÃO PLANIFICADA DO PLANETA TERRA, OU SEJA, O NOSSO MUNDO COMO SE ESTIVESSE EM UMA FOLHA DE PAPEL.

8) COMPLETE:

A) O NOSSO PLANETA É A \_\_\_\_\_ TAMBÉM CHAMADO DE \_\_\_\_\_ E \_\_\_\_\_.

B) A PORÇÃO AZUL DO NOSSO PLANETA CORRESPONDE AOS \_\_\_\_\_ E \_\_\_\_\_.

LÍNGUA PORTUGUESA E MATEMÁTICA

FORMAS GEOMÉTRICAS

9) OBSERVE AS FORMAS GEOMÉTRICAS QUE EXISTEM NA BANDEIRA DO BRASIL, PINTE E ESCREVA QUAL A COR DE CADA UM DELES:



RETÂNGULO DA COR: \_\_\_\_\_




CÍRCULO DA COR: \_\_\_\_\_



LOSANGO DA COR: \_\_\_\_\_ 10)

DESAFIO:



MARIA MORA NA MESMA RUA QUE JOANA, O NÚMERO DA CASA DE MARIA É 64 E PARA DESCOBRIR O NÚMERO DA CASA DE JOANA PRECISAMOS ADICIONAR UMA DEZENA E DUAS UNIDADES.

QUAL O NÚMERO DA CASA DE JOANA?

R: \_\_\_\_\_

11) INVENTE CONTINHAS QUE TENHAM OS SEGUINTE RESULTADOS:

20	1	2	10	6	8	7	3
----	---	---	----	---	---	---	---

12) ESCREVA COMO SE LÊ:

EX: 21 = VINTE E UM

22= \_\_\_\_\_

23= \_\_\_\_\_

24= \_\_\_\_\_

25= \_\_\_\_\_

26= \_\_\_\_\_

27= \_\_\_\_\_

28= \_\_\_\_\_

29= \_\_\_\_\_ ZONA RURAL

E ZONA URBANA:

HÁ PESSOAS QUE MORAM NA CIDADE E OUTRAS QUE MORAM NO CAMPO. AS PESSOAS QUE MORAM NO CAMPO FORMAM A COMUNIDADE RURAL, AS PESSOAS QUE MORAM NA CIDADE FORMAM A COMUNIDADE URBANA.

NA ZONA RURAL E ZONA URBANA EXISTEM ALGUMNAS COISAS EM COMUM E ALGUMAS DIFERENÇAS.

NA ZONA RURAL AS CASAS SÃO MAIS DISTANTES, AS PESSOAS CULTIVAM LAVOURAS, CRIAM VÁRIOS ANIMAIS INCLUIVE GADO. A ZONA URBANA POSSUI CASAS E APARTAMENTOS BEM PRÓXIMOS UNS DOS OUTROS.

NA ZONA RURAL COMO NA ZONA URBANA EXISTE ÁGUA TRATADA, ESGOTO, TRANSPORTE PÚBLICO, BANCOS, COMÉRCIO E ETC.

13) COMPLETE AS LACUNAS COM "V" DE VERDADEIRO E "F" DE FALSO.

( ) A ZONA RURAL TEM MUITOS PRÉDIOS.

( ) A ZONA URBANA TEM CRIAÇÃO DE GADO.

( ) A ZONA RURAL TEM MUITAS LAVOURAS.

( ) A ZONA RURAL TEM CRIAÇÃO DE MUITOS ANIMAIS E ATÉ GADO.

( ) A ZONA RURAL TEM CASAS DISTANTES UMA DAS OUTRAS.

( ) VOCÊ MORA NA ZONA URBANA.

( ) VOCÊ MORA NA ZONA RURAL.

14) ILUSTRE A ZONA RURAL E ZONA URBANA

--	--

