

"UME PEDRO II" - Período de 22/06 a 30/06 - 3ºANO A e B -  
Componente Curricular: Atividades Integradas

AS ATIVIDADES DEVEM SER ENCAMINHADAS PARA SUA PROFESSORA PELO WHATSAPP ou CLASSROOM

PORTUGUÊS/COMUNICAÇÃO E MULTILETRAMENTO: (EF03LP06A) (EFO3LP07A)

## Classificando a sílaba tônica

♦ Para perceber a posição da sílaba tônica de uma palavra, conte a partir da última sílaba:



Posição  
da sílaba  
tônica

Classificação

Nu me **ral**

Última sílaba

Oxítona

Fer **ru** gem

Penúltima  
sílaba

Paroxítona

**Mé** di co

Antepenúltima  
sílaba

Proparoxítona

Faça você

♦ Numere as palavras de acordo com a classificação da sílaba tônica:

- |                               |                                |                                |
|-------------------------------|--------------------------------|--------------------------------|
| ① OXÍTONA                     | ② PAROXÍTONA                   | ③ PROPAROXÍTONA                |
| <input type="radio"/> pássaro | <input type="radio"/> folgado  | <input type="radio"/> óculos   |
| <input type="radio"/> fazenda | <input type="radio"/> atrás    | <input type="radio"/> urubu    |
| <input type="radio"/> viver   | <input type="radio"/> antônimo | <input type="radio"/> espelhos |

# PONTUANDO

✎ Pontue as frases abaixo com     e .

1- – Quais são os pontos cardeais

– Norte  sul  leste e oeste

– Onde o sol nasce

– No leste

2- – Mariane  de que frutas você mais gosta

– As frutas de que mais gosto são:

laranja  uva  pêra e maçã

3- – Que céu azul

– Quanta beleza

– Lua cheia  estrelas brilhantes e nuvens branquinhas dançando

céu



PROBLEMATIZANDO

HAVIA EM UM CESTO 11 BOLAS. PAULO COLOCOU MAIS 13 BOLAS. QUANTAS BOLAS HÁ NO CESTO AGORA?



NO CAMPINHO ESTAVAM 10 CRIANÇAS JOGANDO BOLA. ENTRARAM MAIS 16 CRIANÇAS PARA O JOGO. QUANTAS CRIANÇAS FICARAM AO TODO?

CAMILA FOI AO SUPERMERCADO E COMPROU 1 DEZENA DE LARANJAS E 1 DÚZIA DE MANGAS. QUANTAS FRUTAS ELA COMPROU?



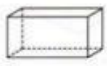
TALES COMPROU FLORES PARA A SUA MÃE. AS FLORES CUSTARAM R\$23,00. ELE PAGOU COM UMA CÉDULA DE R\$50,00. QUANTO RECEBEU DE TROCO?

CASCÃO TINHA 23 BOLINHAS DE GUDE. NUM JOGO COM CEBOLINHA, PERDEU 12. COM QUANTAS BOLINHAS DE GUDE CASCÃO FICOU?



Geometria

1) Observe os sólidos geométricos do quadro a seguir.



Paralelepípedo ou bloco retangular



Cilindro



Cone

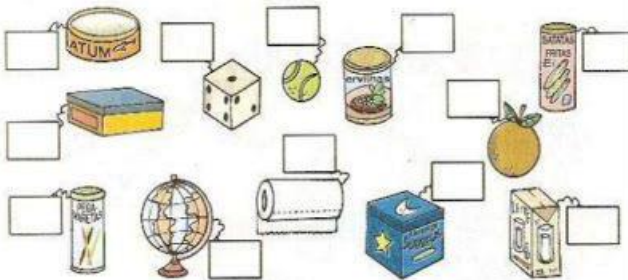


Cubo

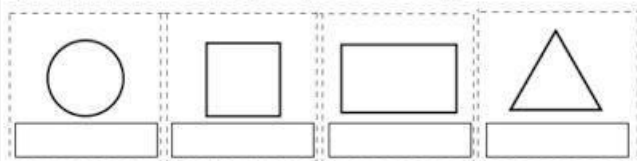


Esfera

- Agora, observe os objetos abaixo e coloque os nomes dos sólidos geométricos que eles lembram.



2) Coloque os nomes nas figuras geométricas a seguir.



## O UNIVERSO

Ao observarmos o céu à noite, podemos ter uma pequena pista da grandiosidade do Universo do qual fazemos parte.

O Universo é formado por inúmeras galáxias, cada qual constituída por uma infinidade de estrelas e de outros astros.

O nosso planeta também é um astro. Ele circula em volta de uma grande estrela, o Sol. Os nove planetas e o Sol, formam o sistema solar, que faz parte da galáxia da Via-Láctea.

LIGUE-SE NESTA! 



① Procure, no dicionário, o significado de:

a) **Universo**

---

---

b) **Mundo**

---

---

② Quantos planetas, incluindo a Terra, formam o sistema solar?

( ) 7      ( ) 8      ( ) 9

③ Os planetas circulam em volta de uma estrela. Qual é o nome dela?

( ) Lua      ( ) Sol

④ Explique o que quer dizer a frase:

“Temos a impressão de sermos tão grandes e fortes, mas, ao nos compararmos com o tamanho do Universo, não passamos de grãos de areia”.

---

---

---

---

# A ação humana sobre as paisagens

## Sobradinho

O homem chega, já desfaz a natureza  
Tira a gente, põe represa, diz que tudo vai mudar  
O São Francisco lá pra cima da Bahia  
Diz que dia menos dia vai subir bem devagar  
E passo a passo vai cumprindo a profecia de beato que diz que o sertão ia alagar  
O sertão vai virar mar, dá no coração  
O medo que algum dia o mar também vire sertão  
[...]  
Vai ter barragem no salto do Sobradinho  
E o povo vai-se embora com medo de afogar  
[...]

Sá e Guarabyra. Sobradinho

1- Qual é o assunto tratado na canção?

---

---

2- Releia a esta frase: "O homem chega, já desfaz a natureza". Você concorda ou discorda com essa afirmativa? Por quê?

---

---

3- Um importante rio brasileiro é citado na canção. Que rio é esse?

---

---

4- Procure no dicionário o significado da palavra **barragem**.

barragem : \_\_\_\_\_  
\_\_\_\_\_



AGORA FAÇA UM DESENHO DA PARTE DA CANÇÃO ACIMA QUE VOCÊ MAIS GOSTOU:

# A RELIGIÃO NA VIDA DAS PESSOAS

Se rob

PARA MUITAS PESSOAS  
PARTICIPAR DE UMA RELIGIÃO  
É MUITO IMPORTANTE  
PORQUE É NA RELIGIÃO  
QUE AS PESSOAS BUSCAM APOIO  
PARA CONQUISTAR UMA VIDA  
MAIS FELIZ.  
EM MUITAS COMUNIDADES RELIGIOSAS  
AS PESSOAS JUNTAS BUSCAM  
VIVENCIAR A FÉ  
CELEBRAR A VIDA  
CULTIVAR A PAZ  
PRATICAR A CARIDADE.  
GERALMENTE  
EM UMA COMUNIDADE RELIGIOSA  
AS PESSOAS COMPARTILHAM  
AS MESMAS CRENÇAS  
SEGUEM OS MESMOS ENSINAMENTOS  
E BUSCAM CONSTRUIR UM MUNDO  
MELHOR.

## ATIVIDADES

1) Que tipo de apoio as pessoas buscam nas religiões?

2) Copie do texto acima o que as pessoas numa comunidade religiosa buscam juntas.

3) Sobre o texto, complete  
Em uma comunidade \_\_\_\_\_ as pessoas compartilham  
as mesmas \_\_\_\_\_, seguem os mesmos \_\_\_\_\_  
e buscam construir um \_\_\_\_\_.

4) Você participa de uma comunidade religiosa ou conhece pessoas que participam? Então desenhe uma prática religiosa dessa comunidade. Depois descreva o que você desenhou.



5) Descreva que práticas religiosas essas pessoas estão realizando.



6. Pinte as religiões abaixo.



Budismo



Cristianismo



Judaísmo

7. Pesquise no dicionário:

- a. CRENÇA
- b. RELIGIÃO
- c. CELEBRAR
- d. CARIDADE
- e. COMPARTILHAR

