

UME: ILHA DIANA

ANO: 5º ANO

PROFESSORA:

PERÍODO DE 12/04/2021 A 23/04/2021

12/04

LÍNGUA PORTUGUESA

1. LEIA A NOTÍCIA ABAIXO:

Fique em casa: cartilha da Turma da Mônica ensina a usar máscaras de proteção

Personagens explicam a forma correta para se proteger contra o coronavírus

02/06/2020 15h18

ISABEL TELES
SÃO PAULO

Cascão lavou as mãos, Magali ensinou a lavar alimentos, e agora chegou a vez de Mônica, Cebolinha e outros personagens da turma colaborarem com a prevenção contra o coronavírus.

Em uma nova cartilha disponível para consulta e download nas redes sociais da Turma da Mônica, eles aparecem com as carinhas cobertas e dão dicas sobre o uso de máscaras de proteção, baseadas em orientações da Anvisa.

Se no começo da pandemia, as máscaras geraram polêmica, hoje é certo que seu uso é essencial na proteção contra o vírus, sendo obrigatório em São Paulo e outras cidades do país.



Cebolinha usa máscara de proteção em cartilha educativa Divulgação

Com mais de dois meses de quarentena e de recomendação do uso da proteção, ainda há dúvidas sobre a forma adequada de manipular as máscaras. A cartilha busca esclarecer algumas dessas questões. dos pontos abordados é a particularidade no manuseio de máscaras descartáveis e reutilizáveis de tecido.

O material integra a série de ações da Mauricio de Sousa Produções (MSP) para educação sobre o coronavírus e tem o objetivo de despertar interesse em crianças, além de permitir que entendam do assunto e colaborem com medidas de prevenção.

Segundo Mônica Sousa, diretora executiva da MSP, o projeto busca fornecer "orientações de fontes seguras para que o combate à pandemia seja feito da forma mais correta possível."

Confira o material nas redes sociais da Turma da Mônica.

Disponível em: <https://guia.folha.uol.com.br/crianca/2020/06/fique-em-casa-cartilha-da-turmadamonica-ensina-a-usar-mascaras-de-protecao.shtml>

2. AGORA COPIE E RESPONDA NO SEU CADERNO:

- A) Qual o título da notícia?
- B) Quando e onde ela foi escrita?
- C) Quem escreveu?
- D) Qual o assunto?
- E) Você acha que a notícia foi escrita para qual público?

MATEMÁTICA

1. Complete a tabela, de acordo com o modelo:

NUMERAL	REPRESENTAÇÃO	CLASSES	ORDENS
Dez mil e um	10.001	2	5
Quinze mil e vinte e três			
Onze mil e nove			
Quatrocentos mil e sete			
Cem mil, seiscentos e sessenta e seis			
Trezentos mil e quarenta e dois			

13/04

CIÊNCIAS

1. LEIA O TEXTO E RESPONDA AS QUESTÕES:

Plástico: que material é esse?

Plástico é o nome de uma grande variedade de materiais sintéticos originados de componentes de petróleo. Essa

palavra vem da língua grega e significa "adequado para modelagem", ou seja, material com plasticidade que lhe permite ser pressionado, cortado e encaixado em fôrmas para a fabricação dos mais diversos objetos.

O uso do plástico iniciou-se por volta do ano de 1900, graças a uma de suas importantes propriedades: a má condutibilidade de corrente elétrica. Além de ser isolante elétrico, com ele se pode fazer peças de material rígido e durável, por isso foi usado na fabricação dos componentes para aparelhos elétricos.

Por ser um material maleável, dele são feitas placas de espessura muito reduzidas e, também, malhas com fios muito finos, propriedade aproveitada na invenção do náilon, tecido largamente usado em roupas no mundo todo.

O plástico também pode ser isolante térmico, como o baquelite, resistente e utilizado para fazer cabos de panelas. Como é leve, resistente a deformações e corrosão, fácil de ser fabricado e transformado com o uso de calor e pressão, o plástico serve de matéria-prima para a fabricação dos mais variados objetos.

Bigaiski, Denise; Sourient, Lilian. Akpalô Ciências, 5º ano. 4ªed.
- São Paulo: Editora do Brasil, 2017.

1. Que objetos de plástico você consegue ver ao seu redor? Cite 5.
2. Observe as características desses tipos de plástico. Em que eles diferem? Por que o plástico foi usado para a fabricação desses objetos?
3. Como devemos descartar os produtos feitos de plástico?

LÍNGUA PORTUGUESA

1. LEIA A MANCHETE E ESCREVA O QUE VOCÊ ESPERA LER NESSA NOTÍCA.

Pássaros dão prejuízo a cientistas por gastos com celular

2. AGORA LEIA A NOTÍCIA COMPLETA E DEPOIS RESPONDA:

Pássaros dão prejuízo a cientistas por gastos com celular

26 DE NOVEMBRO DE 2019

Cientistas russos que estavam monitorando águias ficaram sem dinheiro para continuar sua pesquisa após os animais voarem para longe, em outubro. Isso aconteceu porque o grupo colocou rastreadores nas aves, e elas acabaram indo para lugares em que a operadora de celular responsável cobrava uma taxa mais alta para funcionar.

Os pesquisadores monitoram as águias-da-estepe porque elas estão ameaçadas de extinção e, assim, eles podem acompanhar quais são os perigos que esses pássaros sofrem quando estão voando.

Doze vezes ao dia, os cientistas recebem mensagens de texto por celular com a localização das aves, enviadas pelo rastreador. Duas águias voaram para o Irã, o que fez com que a operadora cobrasse cerca de 439 reais a mais por dia para funcionar para cada uma delas. Outras duas também contribuíram para que o crédito do grupo acabasse mais rápido: uma foi para o Tajiquistão e outra, para o Turcomenistão.



Entretanto, a pesquisa conseguiu um jeito de sofrer menos com o prejuízo: ao divulgar a história, a organização fez com que muitas pessoas entendessem a situação e se oferecessem para ajudar. Assim, os cientistas arrecadaram mais de 15 mil reais para continuar com a pesquisa até o fim de 2019.

Disponível em:

<https://www.jornaljoca.com.br/passarosdao-prejuizo-a-cientistas-por-gastos-com-celular/>

- A) A notícia descreve o fato como você estava imaginando, ou você se surpreendeu?
- B) Escreva um parágrafo resumindo o que você entendeu após a leitura da notícia.

14/04

MATEMÁTICA

1. A população de Corumbá, no Mato Grosso do Sul, é de 95.704 habitantes. O número de pessoas que moram em Corumbá escrito por extenso é:

- a) Noventa e cinco mil setecentos e quatro habitantes
- b) Noventa e cinco mil e setenta e quatro habitantes
- c) Noventa e cinco mil, setecentos e quarenta habitantes
- d) Noventa e cinco mil e setenta e quarenta habitante

2. Quatro amigos anotaram num quadro os pontos ganhos num jogo: André - 2.760; Bento - 2.587; Carlos - 2.699; Dario - 2.801. Qual menino fez mais pontos?

A) André B) Bento C) Carlos D) Dario

3. O número natural que é obtido quando é feita a adição de 3.415 e 295 é:

A) 6.365 B) 3.710 C) 3.610 D) 3.600

4. Numa adição, as parcelas são 45.099; 742; 6.918 e 88. Qual é o valor da soma?

A) 44.357 B) 47.439 C) 52.847 D) 114.279

5. Um fazendeiro tinha 285 bois. Comprou mais 176 bois e depois vendeu 85 deles. Quantos bois esse fazendeiro tem agora?

A) 266 B) 376 C) 476 D) 486

LÍNGUA PORTUGUESA

OBSERVE A LISTA DE PALAVRAS A SEGUIR:

beleza	japonesa	malvadeza
camponesa	frieza	inglesa
dureza	princesa	esperteza
portuguesa	gentileza	duquesa

1. AGORA COMPLETE COM **S** OU **Z**:

prince_a	barone_a	polone_a	mole_a	irlande_a
bele__a	escoce_a	ingle_a	noruegue_a	lerde_a
esperte_a	fraque_a	triste_a	fortale_a	magre_a
duque_a	portugue_a	chine_a	gentile_a	france_a
japone_a	frie_a	finlande_a	impure_a	grande_a
linde_a	marque_a	firme_a	estranhe_a	delicade_a

2. O QUE PODEMOS CONCLUIR SOBRE O USO DO SUFIZO -ESA?

3. O QUE PODEMOS CONCLUIR SOBRE O USO DO SUFIXO -EZA?

15/04

HISTÓRIA

LEIA O TEXTO A SEGUIR E DEPOIS COPIE AS QUESTÕES E RESPONDA NO SEU CADERNO:

Os sambaquis



A palavra sambaqui tem raiz etimológica no tupi-guarani, significando depósito de conchas. Os povos que habitavam as regiões litorâneas e formaram os sambaquis com suas ações são conhecidos como povos do sambaqui. Os concheiros, como também são chamados os sambaquis, medem, no Brasil, entre 2 e 20 metros de altura,

podendo chegar a 100 metros de diâmetro. Alguns são datados com mais de 5000 anos. Estudos arqueológicos mostram que as montanhas eram formadas por conchas e restos alimentares depositados em um mesmo lugar ao longo de vários anos. Mas há também indícios que havia restos de animais, bem como ferramentas utilizadas por essas populações primitivas. Por outro lado, os resquícios de

corpos humanos podem sugerir que os sambaquis serviam também como cemitérios.







1- O que significa sambaqui?

2- O que são encontrados em um sambaqui?

3- No Brasil qual o tamanho médio de um sambaqui?

MATEMÁTICA

1) Observe o quadro abaixo e responda no seu caderno:

	1	2	3	4	5
A					
B					
C					

a) Que fruta está na posição (A,2)?

R:

b) Qual a posição da banana no quadro?

R:

c) Qual a fruta que está na posição (B,2)?

R:

d) Em quais posições estão as peras?

R:

16/04

LÍNGUA PORTUGUESA

USO DOS SINAIS DE PONTUAÇÃO

1. Pontue cada frase abaixo de acordo com a ideia expressa entre os parênteses:

- a) - Parem com essa bagunça agora ____ (gritou a mãe)
- b) - Vocês me ouviram, crianças ____ (perguntou a mãe)
- c) Crianças quando se juntam, sempre acabam fazendo bagunça ____ (declarou a mãe)

2. Leia o conto abaixo, depois copie no seu caderno, colocando nos espaços a pontuação adequada. Coloque os sinais de pontuação com caneta.

O LADRÃO DE BODES

Diz que ____ uma vez ____ um homem roubou meia dúzia de bodes ____ Tranquilo, continuou tocando a vida ____ Como a justiça tarda mas não falha, foi chamado a prestar contas diante do juiz ____

Receoso, procurou seu compadre e perguntou -lhe ____
____ O que devo dizer para escapar do castigo ____

____ É fácil ____ disse o compadre ____ A cada pergunta do juiz comece a berrar feito bode ____

E assim ele fez ____ Quando o juiz lhe perguntou ____
____ Então o senhor é responsável por esse delito ____

O homem berrou ____
____ Béééééé ____

____ O senhor não entendeu ____ Quem gritava assim eram os bodes, enquanto o senhor os levava ____ Eu quero saber se foi o senhor que roubou os bodes ____

E mais uma vez, o ladrão de bodes berrou ____
____ Béééééé ____

Os jurados concluíram que o homem não estava em seu juízo perfeito e o absolveram da acusação ____

Quando voltava para casa, encontrou o compadre que foi logo dizendo ____

____ Pois é, compadre, como você está livre por causa da minha esperteza ____ sabedoria e inteligência, quero a metade dos bodes como pagamento pela minha boa ideia ____

O ladrão de bodes prontamente respondeu ____
____ Béééééé ____

(Contos Populares)

MATEMÁTICA

1) De acordo com o exemplo decomponha os números abaixo: Ex: 4822 = 4 Unidades de milhar 8 centenas 2 dezenas e 2 unidades.

a) 1756 =

b) 4652 =

c) 6891 =

d) 7564 =

e) 9483 =

2) Seguindo o exemplo, componha os números:

Ex: 2 unidades de milhar 7 centenas 5 dezenas e 8 unidades = 2.758

a) 3 unidades de milhar 8 centenas 9 dezenas e 8 unidades =

b) 8 unidades de milhar 2 centenas 7 dezenas e 6 unidades =

c) 5 unidades de milhar 3 centenas 9 dezenas e 4 unidades =

d) 7 unidades de milhar 6 centenas 2 dezenas e 3 unidades =

e) 4 unidades de milhar 5 centenas 1 dezena e 7 unidades =

3) Escreva os números abaixo por extenso:

a) 8397 =

b) 1647 =

c) 26831 =

d) 3242 =

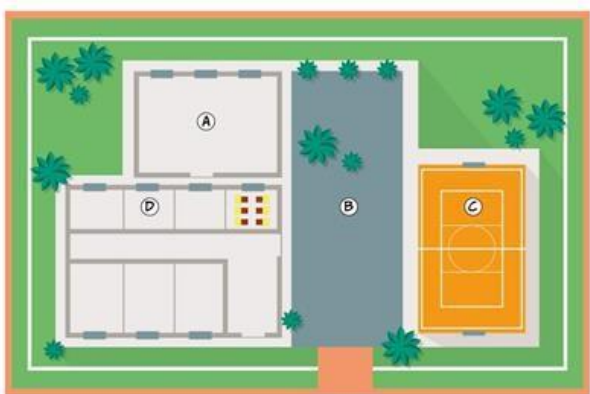
e) 43863 =

f) 5902 =

19/04

MATEMÁTICA

1. Observe a planta baixa de uma escola. Os alunos do segundo ano fizeram uma legenda para localizar as repartições.



Assinale a legenda correta.

(A) Sala de aula (A), pátio (B), quadra de esportes (C) e biblioteca (D).

(B) Sala de aula (D), pátio (B), quadra de esportes (C) e biblioteca (A).

(C) Sala de aula (A), pátio (C), quadra de esportes (B) e biblioteca (D).




(D) Sala de aula (D), pátio (C), quadra de esportes (B) e biblioteca (A).

2. Observe e marque com um X a alternativa que descreve a posição das retas na sequência a seguir.



- Paralelas, concorrentes, perpendiculares, paralelas, paralelas, perpendiculares.
- Paralelas, concorrentes, paralelas, perpendiculares, paralelas, perpendiculares.
- Paralelas, concorrentes, perpendiculares, concorrentes, paralelas, perpendiculares.

3. Usando uma letra e um número indique a localização de cada figura.

	A	B	C	D	E
4					
3					
2					
1					

- a) Quadrado:
- b) Círculo:
- c) Triângulo:

Vamos relembrar os pronomes?

Assista os vídeos a seguir:

<https://www.youtube.com/watch?v=jFYabGMbQN8>

<https://www.youtube.com/watch?v=vcOy8DZOSmY>

<https://www.youtube.com/watch?v=hfGyxmu6HOo>

A Bruxa e o Lenhador

A bruxa do bosque estava apaixonada pelo lenhador do bosque. Mas o lenhador do bosque não gostava da bruxa do bosque por ela ser muito feia.

Então a bruxa do bosque decidiu fazer uma poção para que o lenhador do bosque ficasse apaixonado por ela quando a bebesse.

A bruxa do bosque acendeu o lume¹, pôs-lhe o seu caldeirão de ferro em cima, e meteu lá dentro um olho de sapo míope, três asas fumadas² de morcego, baba de escaravelho, unhas de gato preto com manchas brancas, dois pelos da nuca de um macaco e sei lá quantas coisas mais. Deu a beber a poção ao lenhador do bosque, mas o lenhador do bosque não ficou apaixonado pela bruxa do bosque.

Então a bruxa do bosque voltou a acender o lume, voltou a pôr-lhe em cima o caldeirão de ferro e meteu lá dentro dois litros de água, um quilo de costeletas de porco, uma pitada de sal, uma cebola, duas cenouras, um pimento³, tomilho, louro, salsa, dois dentes de alho, um tomate e um fio de azeite.

A bruxa do bosque preparou um delicioso cozinhado que ofereceu ao lenhador do bosque. E o lenhador do bosque gostou tanto do cozinhado, que se apaixonou pela bruxa do bosque, porque o lenhador do bosque era muito comilão.

¹ lume: fogo

² fumadas: defumadas

³ pimento: pimentão

RESPONDA EM SEU CADERNO:

1. Sobre quais questões esse conto nos faz pensar?
2. Há algum problema no modo de contar o texto?
3. Reescreva o primeiro parágrafo substituindo os termos repetidos, de modo que a leitura fique mais agradável.
4. Circule os pronomes que você usou na reescrita do texto.

20/04

GEOGRAFIA

Em 2010, a população do município de Santos foi contada pelo Instituto Brasileiro de Geografia e Estatística em 419.400 habitantes, sendo o décimo mais populoso do estado. Proporcionalmente, os bairros que mais sofreram com incremento de pessoas são: Morro Santa Maria (alta de 86,4%), Alemoa (80,5%), Bom Retiro (33,4%) São Manoel (29,9%) e Nova Cintra (26,3%). Juntas, as cinco áreas experimentaram o acréscimo de 6.350 pessoas de 2000 para cá. O segundo bairro com ocupação mais expressiva é, curiosamente, uma área industrial. A Alemoa passou de 570 habitantes para 1.029. Lá, onde antigamente funcionava o aterro sanitário da Cidade, está a Vila dos Criadores, com 281 domicílios.

Disponível: <http://www.issoesantos.com.br/bairros.htm>


https://cidades.ibge.gov.br/brasil/sp/santos/panor_ama http://populacao.net.br/os-maiores-bairrossantos_sp.html

Desde sua fundação algumas áreas vêm sendo habitadas de maneira desordenada, como os morros e alguns bairros da zona noroeste o que aumenta o número de habitantes não contabilizados.

1) Na sua opinião porque essas áreas tem bastante habitantes e não param de crescer? O que elas têm em comum?

Os bairros com mais habitantes de Santos são: 1º Embaré com 37.807 hab. 2º Aparecida com 36.440 hab. 3º Ponta de Praia com 31.573 hab. 4º Boqueirão com 30.869 hab. 5º Campo Grande com 27.787 hab.

2) Você conhece algum desses bairros? Se sim, qual?



**Quer saber
MAIS?**

Imigração - é quando uma pessoa entra em um país estrangeiro para viver, deixando seu país de origem.

Migração interna - são as mudanças de pessoas de uma região para outra dentro dos limites do país.

Assista ao vídeo disponível em:

<https://www.youtube.com/watch?v=kPQMRrGeDXo>

A população de Santos é composta por imigrante e migrante. Fomos influenciados pelas suas culturas e alimentação. Espanhóis, japoneses, italianos, alemães, portugueses, franceses e árabes são alguns dos imigrantes.

3) Você conhece alguém que seja imigrante? De qual país?

4) Você conhece alguém que seja migrante? De qual região?

MATEMÁTICA

1. Um ano pode ter 365 ou 366 dias (quando é um ano bissexto). Sabendo que esse período é dividido em 12 meses, responda:

- a) Quais os meses que possuem 30 dias?
- b) Quais os meses que possuem 31 dias?
- c) Quantos dias possui o mês de Fevereiro?

2. Siga o exemplo e complete com o tempo correspondente a

a) Biênio = 2 anos

b) Trimestre =

c) Quinzena =

d) Século =

e) Milênio =

f) Bimestre =

g) Década =

h) Semestre =

i) Quinquênio=

3. DESAFIO:

O coração humano que normalmente pesa em torno de 330g nos homens e 250g nas mulheres, bombeia o sangue para todos os órgãos do corpo em aproximadamente 45 segundos se a pessoa estiver em repouso, independentemente do ritmo das batidas. Então responda:

Se um coração realiza 70 batidas em 1 minuto, qual será a frequência cardíaca desse coração em um dia?

22/04

LÍNGUA PORTUGUESA

Observe a letra dessa música e se quiser assista o clipe aqui:

<https://www.youtube.com/watch?v=a-p3bnk928A>

Velha infância: Tribalistas

Você é assim
Um sonho pra mim
E quando eu não te vejo
Eu penso em você
Desde o amanhecer
Até quando eu me deito...

Eu gosto de você
E gosto de ficar com você
Meu riso é tão feliz contigo
O meu melhor amigo
É o meu amor...

E a gente canta
E a gente dança
E a gente não se cansa
De ser criança
Da gente brincar
Na nossa velha infância...

Seus olhos meu clarão
Me guiam dentro da escuridão Seus
pés me abrem o caminho
Eu sigo e nunca me sinto só...

Você é assim
Um sonho pra mim
Quero te encher de beijos
Eu penso em você
Desde o amanhecer
Até quando eu me deito...

Eu gosto de você
E gosto de ficar com você
Meu riso é tão feliz contigo
O meu melhor amigo
É o meu amor...

E a gente canta
E a gente dança
E a gente não se cansa
De ser criança
A gente brinca
Na nossa velha infância...

Seus olhos meu clarão
Me guiam dentro da escuridão
Seus pés me abrem o caminho
Eu sigo e nunca me sinto só...

Você é assim
Um sonho pra mim
Você é assim..
Você é assim..
Você é assim..

1) Após ouvir a canção e observar a letra, copie todos os pronomes. (não é necessário repetir palavras)

2) Coloque (V) para verdadeiro e (F) para falso.

- a) () A palavra "EU" que é repetida várias vezes na canção é classificada como pronome pessoal do caso reto.
- b) () Os pronomes pessoais oblíquos encontrados na música são: mim, contigo, me, te.
- c) () Não há pronomes possessivos na canção.
- d) () Na canção temos os pronomes possessivos : meu/ seus.
- e) () Há apenas um Pronome Pessoal Recíproco que é o "SE".
- f) () A palavra "você" que aparece na canção pode ser classificada como pronome de tratamento.

3) Recorte 5 pronomes de revistas ou jornais, cole no seu caderno e faça a classificação deles. Ex.: pronome pessoal.

MATEMÁTICA

1) A tabela mostra o total de visitantes na cidade de Londrina durante as estações do ano. Qual foi a estação do ano com o maior número de visitantes?

ESTAÇÕES DO ANO	TOTAL DE VISITANTES
Verão	1.148
Outono	1.026
Inverno	1.234
Primavera	1.209

A) outono B) verão C) primavera D) inverno

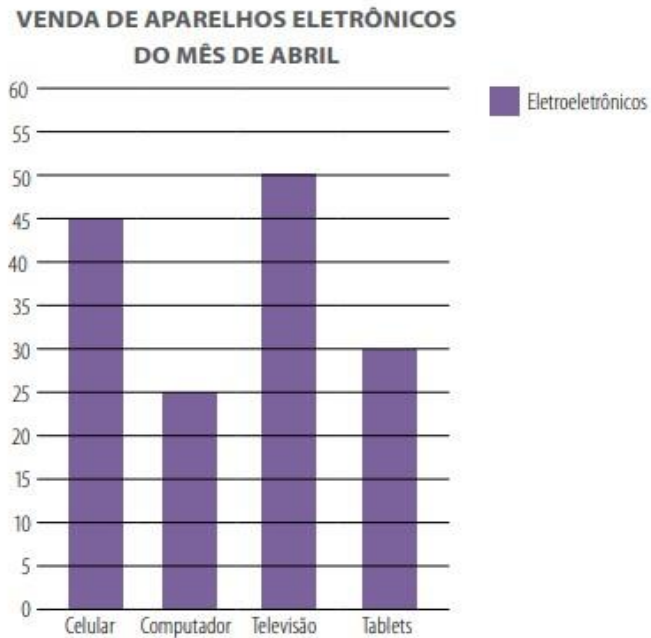
2) Um estudante pretende se inscrever para participar de um campeonato. O valor das inscrições está apresentado na tabela abaixo:

CATEGORIA	INSCRIÇÕES ATÉ 31/10	NA ABERTURA DO CAMPEONATO
Profissional	R\$ 60,00	R\$ 70,00
Estudantes	R\$ 30,00	R\$ 35,00

Sabendo que o estudante vai se inscrever na abertura do campeonato, qual o valor que ele vai pagar?

A) R\$ 30,00 B) R\$ 35,00 C) R\$ 60,00 D) R\$ 70,00

3) Uma loja realizou uma pesquisa interna para determinar quais eletroeletrônicos foram vendidos no mês de abril.



a) Complete o quadro com as informações gráficas representadas no gráfico:

APARELHOS ELETRÔNICOS	QUANTIDADE VENDIDA
CELULAR	
COMPUTADOR	
TELEVISÃO	
TABLETS	
TOTAL	

- b) Qual o aparelho eletrônico mais vendido?
- c) Quantos aparelhos eletrônicos foram vendidos no mês de abril?
- d) A quantidade de tablets vendidos é inferior à de computadores?

23/04

Autoavaliação

Hoje faremos uma autoavaliação, onde vocês irão refletir sobre o processo de aprendizagem. Leiam com atenção e sejam verdadeiros nas respostas.

1) Com suas palavras, escreva o que aprendeu em:

- Língua Portuguesa

- Matemática

- História

- Geografia

- Ciências

2) Você entregou as atividades?

Sim Não Às vezes

3) Teve boa participação no ensino remoto?

Sim Não Mais ou menos

2) Realizou todas as atividades propostas?

Sim Não Algumas

3) Fez as atividades com capricho e atenção?

Sim Não Às vezes

4) Seu caderno está completo e organizado?

Sim Não Mais ou menos

8) De acordo com sua participação, de 0 a 10, que nota você acha que merece?