



ROTEIRO DE ESTUDO/ATIVIDADES

UME: PROFESSOR FLORESTAN FERNANDES

ANO: 8º ANOS - COMPONENTE CURRICULAR: MATEMÁTICA

PROFESSOR: EDNILSON SANTOS

PERÍODO: 12/04/2021 a 23/04/2021

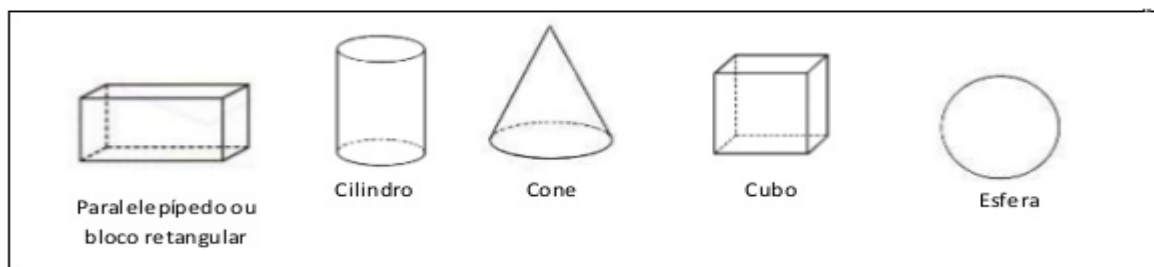
ROTEIRO DE ESTUDO - 8 º ANOS

1. Faça em seu caderno os exercícios de fixação;
2. Envie a atividade ao professor por: e-mail:
professorrednilsonumeff@gmail.com

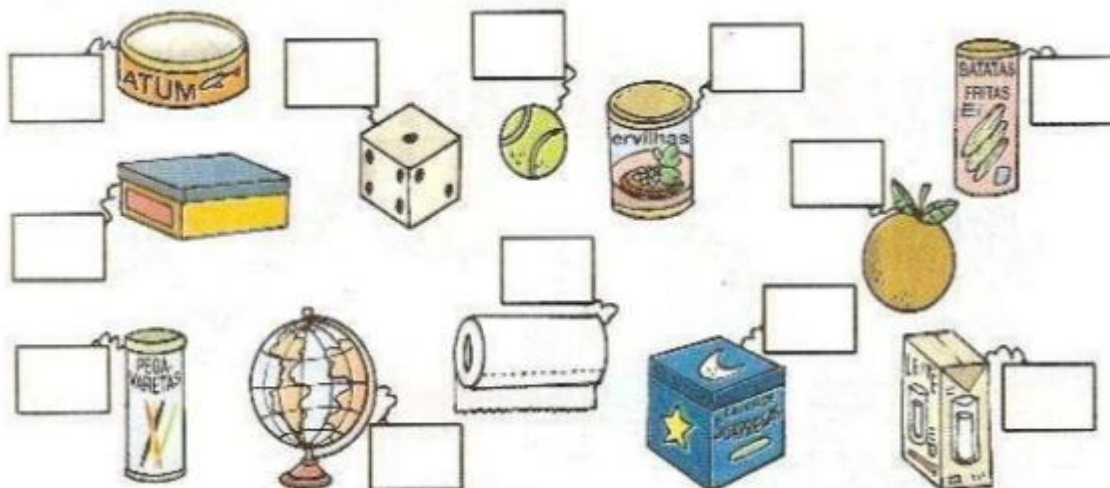
EXERCÍCIOS DE FIXAÇÃO

Geometria

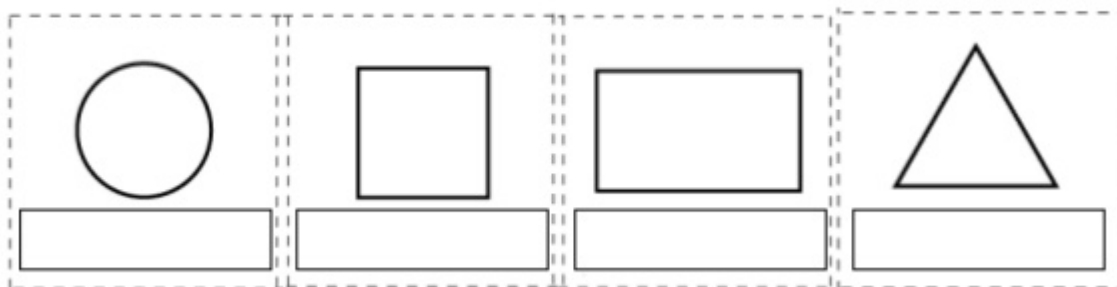
- 1) Observe os sólidos geométricos do quadro a seguir.




- Agora, observe os objetos abaixo e coloque os nomes dos sólidos geométricos que eles lembram.



2) Coloque os nomes nas figuras geométricas a seguir.


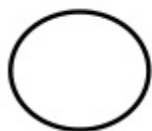


3) Pinte a paisagem assim: os triângulos de vermelho, os círculos de amarelo, os quadrados de azul e os retângulos de laranja. Complete a legenda e indique as quantidades das formas.



4)

Legenda:



- Agora responda:

a) Quantos triângulos você pintou ?


b) Quantos retângulos ? _____

c) Quantos círculos ? _____

d) Quantos quadrados? _____

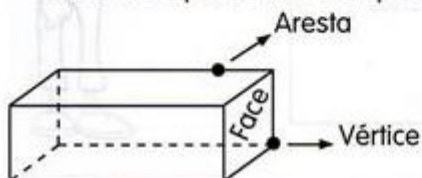
e) Qual é o total de figuras que você pintou?

SÓLIDOS GEOMÉTRICOS



Poliedros são os sólidos que possuem todas as partes planas.

Observe os poliedros e complete.



5)

Nome: _____
 Quantas faces? _____
 Quantas arestas? _____
 Quantos vértices? _____

Nome: _____
 Quantas faces? _____
 Quantas arestas? _____
 Quantos vértices? _____

Nome: _____
 Quantas faces? _____
 Quantas arestas? _____
 Quantos vértices? _____

Nome: _____
 Quantas faces? _____
 Quantas arestas? _____
 Quantos vértices? _____




Nome: _____
 Quantas faces? _____
 Quantas arestas? _____
 Quantos vértices? _____

6) Complete as frases escrevendo o nome dos sólidos geométricos correspondentes.

- Uma bolinha de tênis lembra um _____.
- Uma caixa de sapato lembra um _____.
- Uma lata de refrigerante lembra um _____.
- Um sorvete lembra um _____.



7) Observe as figuras e complete a tabela.

| SÓLIDOS | NÚMERO DE FACES | NÚMERO DE VÉRTICES | NÚMERO DE ARESTAS |
|-----------------------------------------------------------------------------------|-----------------|--------------------|-------------------|
|  | | | |
|  | | | |
|  | | | |
|  | | | |

8) **LIGUE OS DESENHOS ÀS FIGURAS CORRESPONDENTES:**



9) **COMPLETE A CRUZADINHA SOBRE OS SÓLIDOS GEOMÉTRICOS:**

