

SANTOS, _____ DE _____ DE 2021.

NOME DO ALUNO: _____.

ATIVIDADE DE LÍNGUA PORTUGUESA E GEOGRAFIA – 2 ANO

PERÍODO DE 01/03/2021 A 31/03/2021

ATIVIDADE 22 DE 18/03/2021

Poesia:

Essa não, Jacaré!

(Dirce Guedes)

Eu fui na mata
conhecer a bicharada.
Cada bicho que eu encontrava
me contava uma piada.




O tatu ficou na toca,
jacaré, lá na lagoa.
A coruja, toda prosa,
passeava de canoa.



O jacaré, muito gozado,
quis mexer com o tatu.
Jogou nele uma pedra
que caiu no urubu!

Com um galo na cabeça,
o urubu ficou zangado.
Chamou a dona Coruja
e foi buscar o delegado!




Responda:

1- Onde a bicharada da estória morava? _____

2) Quais os bichos que aparecem no texto? _____

PINTE AS FIGURAS CONFORME A LEGENDA E DEPOIS
ESCREVA O NOME DE CADA UMA NA CATEGORIA CORRETA:

COMIDAS BRINQUEDOS ANIMAIS



COMIDAS	BRINQUEDOS	ANIMAIS

GEOGRAFIA:

O BAIRRO

O BAIRRO É UMA PARTE DA CIDADE, E TODOS TEM UM NOME E UMA HISTÓRIA.

ALGUNS BAIRROS FICAM PERTO E OUTROS FICAM AFASTADOS DO CENTRO DA CIDADE. QUANDO UM BAIRRO FICA MUITO AFASTADO DO CENTRO DA CIDADE, DIZEMOS QUE ELE FICA NA PERIFERIA OU NO SUBÚRBIO.

OS BAIRROS PODEM SER CLASSIFICADOS EM:


- **RESIDENCIAIS:** A MAIOR PARTE DAS CASAS SÃO RESIDENCIAIS.
- **COMERCIAIS:** SÃO ONDE EXISTEM MUITOS ESTABELECIMENTOS COMERCIAIS. (ONDE COMPRAM E VENDEM MERCADORIAS).
- **INDUSTRIAIS:** ONDE HÁ MUITAS FÁBRICAS. (ONDE PRODUZEM ALIMENTOS, ROUPAS, MATERIAIS DE CONSTRUÇÃO E ARTIGOS EM GERAL).

RESPONDA:

A) QUAL O NOME DO SEU BAIRRO? _____


B) O QUE VOCÊ PODE ENCONTRAR EM SEU BAIRRO?

AGORA FAÇA UM DESENHO REPRESENTANDO O BAIRRO ONDE VOCÊ MORA E OS ELEMENTOS QUE EXISTEM NELE:



VISÃO DO BAIRRO!

MOSTRE QUE VOCÊ É UM BOM OBSERVADOR E RESPONDA AS PERGUNTAS:



De acordo com a ilustração, o que está no centro?

O que está à direita da igreja?

Em frente à igreja?

O que se localiza à esquerda da igreja?

E à esquerda da praça?