



PREFEITURA DE SANTOS

Secretaria de Educação



COMPONENTE CURRICULAR: INTEGRADO

ROTEIRO DE ESTUDO

Olá, turma!

Vocês sabiam que o jornal nos mantém atualizados e bem informados. Nós caprichamos para você ter informações importantes neste momento de tantos desafios.

Estamos com saudades de nossos encontros presenciais e esperamos que continuem estudando em casa porque logo estaremos juntos novamente.

Cuidem dos protocolos sanitários e participem das atividades remotas enviadas pelos professores.

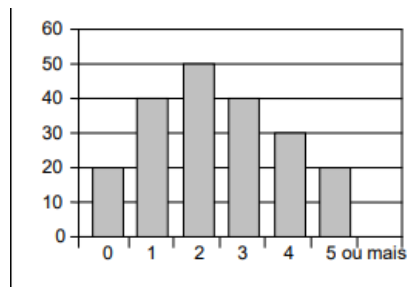
Um grande abraço.

DATA	ATIVIDADE	ORIENTAÇÃO
15/03 A 19/03	<ul style="list-style-type: none">• Marias do Monte Serrat - lista de nomes	<ul style="list-style-type: none">• Escreva uma lista com as Marias de sua família. Caso não tenha nenhuma Maria,

- Retrato

- Pesquisa e gráfico

Exemplo: Gráfico
número de irmãos



- Quem foi Maria do Socorro?

escreva o nome das Marias de seu grupo de convivência.

○

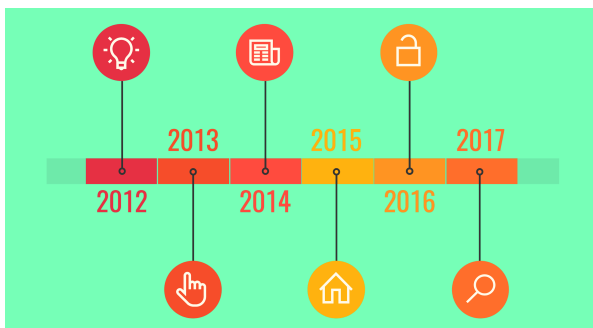
- Escolha uma das Marias de sua convivência e faça seu retrato por meio de desenho, pintura ou colagem.

- Pergunte quantos filhos tem cada Maria que você conhece e construa um gráfico para compartilhar conosco.

- Maria do Socorro veio do Ceará com 15 anos e já está em Santos há 44 anos. Qual seria a idade atual desta conhecida Maria? Em que ano ela chegou em Santos? Em que ano ela nasceu?
- Sabendo que sua filha tem 26 anos, atualmente, com quantos anos Maria do Socorro teve esta filha? Em que ano?

- Linha do tempo

Exemplo:



- Pesquisa Monte Serrat

- A festa de D. Maria Helena

- Construa uma linha do tempo colocando as datas que marcaram a vida de Maria do Socorro, como chegada em Santos, nascimento da filha.

- Agora, você deve colocar na linha do tempo que você construiu, sua data de nascimento e um fato que ocorreu em sua vida. Realize um breve relato deste fato.

- Pesquise quantos degraus há na subida do Monte Serrat. Qual a altura da Capela do Monte Serrat?

- D. Maria Helena organizou uma festa na escola com seus 36 alunos. Cada menina deveria trazer um pratinho de doce e os meninos 2 refrigerantes. Sabendo-se que na classe de D. Maria Helena há 19 meninas, quantos meninos há na sala e quantos refrigerantes trouxeram?

DATA	ATIVIDADE	
22/03 A 26/03	<ul style="list-style-type: none"> ● MULHERES NA CIÊNCIA ● TRANSTORNOS MENTAIS E ESTRESSE 	<ul style="list-style-type: none"> ● A reportagem do jornal se inicia com várias frases interrogativas, onde a intenção é despertar o interesse do leitor. Essas perguntas foram respondidas no transcrito do texto? De que maneira isso ocorreu? ● Realizando um comparativo a respeito dos estudos e dos trabalhos de Nise da Silveira sobre os transtornos mentais, estabeleça um paralelo com o momento de estresse que a sociedade está vivendo de forma exacerbada, na pandemia da COVID-19, atualmente. Você acredita que as situações estressantes vividas na sociedade moderna contribuem para o surgimento de problemas emocionais? Explique a sua resposta. ● Qual foi o método de tratamento utilizado por Nise da Silveira? Tomando por base os trabalhos de Nise da Silveira, o que poderia ser feito para amenizar o quadro evolutivo de alguns problemas mentais nos tempos atuais?

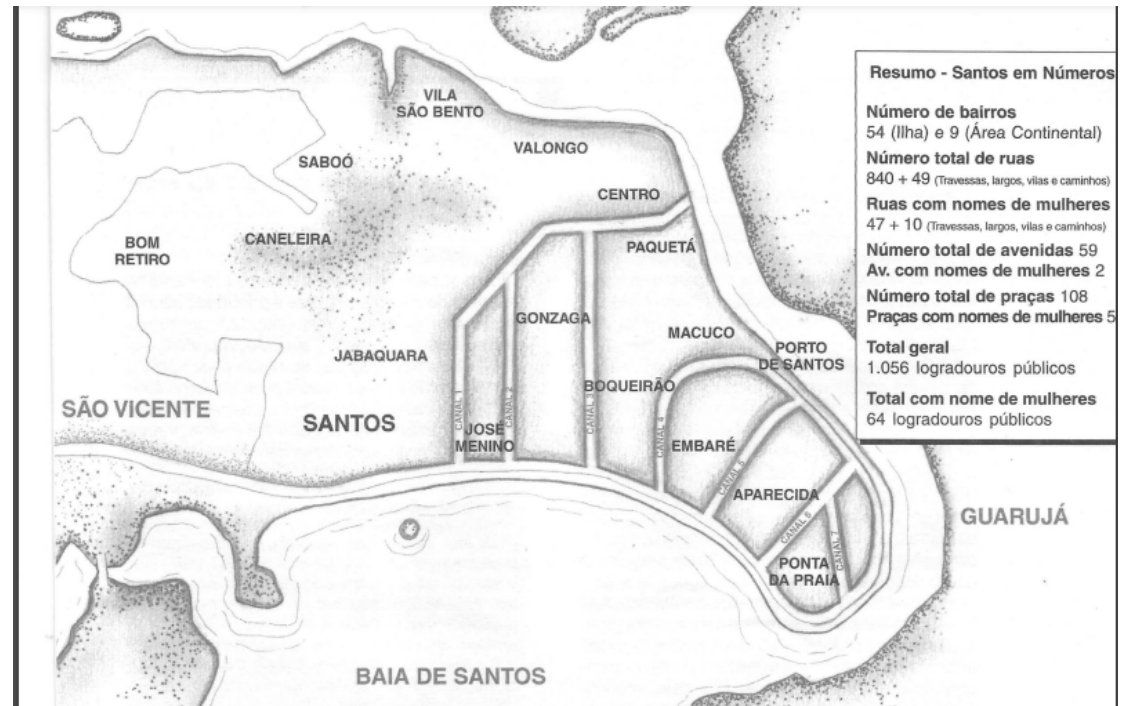
● MULHERES E O AVANÇO SOCIAL

● TRABALHOS MANUAIS E TERAPIA

● Pesquisa sobre outra mulher que ao longo da história tenha contribuído com avanços significativos para a sociedade. Esses avanços estão presentes na sua vida nos dias de hoje? Em quê?

● Nise da Silveira trabalhava com diversas formas de terapias manuais, em que as habilidades artísticas dos seus pacientes eram exploradas na forma de desenho, música e escultura. Represente o seu estado emocional na forma de um desenho. Leve em consideração também as cores que serão empregadas.

ANEXOS



Maria Lúcia Prandi (Ex-Parlamentar)

Maria Lúcia Prandi nasceu em Potirendaba, a 29 de novembro de 1944, e faleceu em São Paulo, em 7 de outubro de 2015. Foi professora de História e mestre em Ciências Sociais. Elegeu-se vereadora, em 1992. Única mulher a presidir a Câmara Municipal de Santos e dois anos depois foi eleita deputada estadual. Atuou como secretária de Educação na gestão de Telma de Souza. Reelegeu-se deputada estadual em 1998, 2002 e 2006.

Em 2010, obteve 56.108 votos na disputa por uma vaga de deputada federal (equivalentes a 0,26% dos válidos). Elegeu-se suplente e assumiu a vaga de Ricardo Berzoini que, em 2014, deixou o parlamento para ser ministro das Relações Institucionais.

Fonte: Prefeitura Municipal de Santos.