

ROTEIRO DE ESTUDOS / ATIVIDADES REMOTAS

UME DEP. RUBENS LARA

ANO: 3º ANO

PROFESSORAS: Fernanda, Thiago, Maria Helena e Adriana


PERÍODO 01/03 a 12/03

3º ANO MATEMÁTICA

1- A turma do 3º ano fez uma pesquisa sobre a preferência das crianças entre algumas opções de frutas:

FRUTA				
VOTOS	6	5	8	10

No gráfico abaixo pinte a quantidade de votos que cada fruta recebeu:



2 - Responda sobre o gráfico:

A- Qual a fruta com maior número de votos?

R: \_\_\_\_\_

B- Qual a fruta com menor número de votos?

R: \_\_\_\_\_

C- Quantas crianças participaram da pesquisa?

R: \_\_\_\_\_

D- Quantos votos o mamão teve a mais que a maçã?

R: \_\_\_\_\_

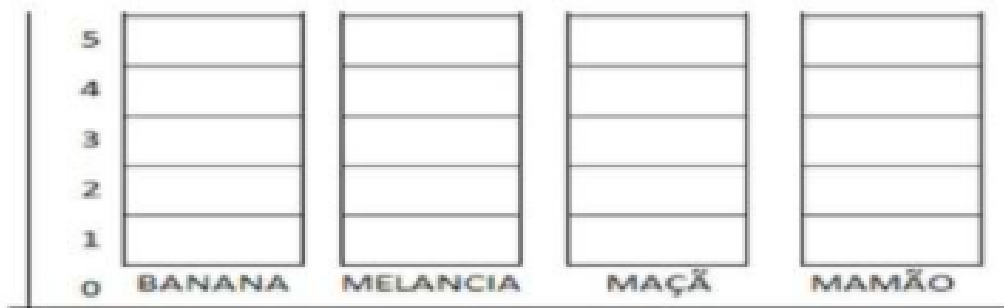
E- Quantos votos à maçã precisa para empatar com a melancia?

R: \_\_\_\_\_

F- Com base na pesquisa, quais frutas devem ser compradas para a merenda escolar de acordo com a preferência dos alunos? Cite o nome das duas mais votadas:

R: \_\_\_\_\_

3 - Agora é sua vez. Faça uma pesquisa entre seus familiares e pinte o gráfico abaixo. Qual a fruta preferida de cada familiar?



4 - Descubra o segredo de cada sequência e continue a contagem.

2	4	6							
---	---	---	--	--	--	--	--	--	--

36	38	40							
----	----	----	--	--	--	--	--	--	--

15	17	19							
----	----	----	--	--	--	--	--	--	--

5 - Ligue as adições aos resultados correspondentes.

$53 + 20$

61

$24 + 12$

36

$36 + 25$

73

6- Observe o calendário do mês de junho:

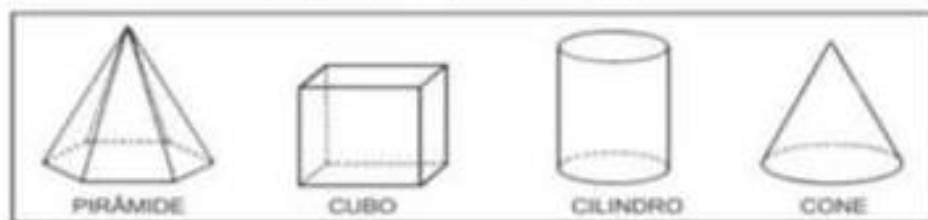
Junho 2020						
Domingo	Segunda	Terça	Quarta	Quinta	Sexta	Sábado
	1	2	3	4	5	6
7	8	9	10	11	12	13
14	15	16	17	18	19	20
21	22	23	24	25	26	27
28	29	30				

11 - Dia da Criança 12 - Dia do Remédios 21 - Dia do Amor  
28 - Dia da Mãe 13 - Dia do Estudante 21 - Dia da Terra 28 - Dia do Desporto

a) O aniversário de Larissa é dia 16 de junho. Em que dia da semana cairá?

---

## Sólidos geométricos



Responda as questões.

Qual a diferença entre o cubo e a pirâmide?

---

Encontre na sua sala de aula, um objeto que tenha a forma de um cilindro.

---

Qual a diferença entre um cubo e um quadrado?

---

Você se lembra de um objeto com formato de um cubo?

---

Escreva o nome do sólido geométrico que as figuras abaixo lembram.



Uma laranja lembra \_\_\_\_\_



A casquinha de um sorvete lembra \_\_\_\_\_



Uma lanterna lembra \_\_\_\_\_

---

MARQUE UM ( X ) NO NOME DAS FIGURAS GEOMÉTRICAS:






			
<input type="checkbox"/> CÍRCULO	<input type="checkbox"/> CÍRCULO	<input type="checkbox"/> CÍRCULO	<input type="checkbox"/> CÍRCULO
<input type="checkbox"/> RETÂNGULO	<input type="checkbox"/> RETÂNGULO	<input type="checkbox"/> RETÂNGULO	<input type="checkbox"/> RETÂNGULO
<input type="checkbox"/> QUADRADO	<input type="checkbox"/> QUADRADO	<input type="checkbox"/> QUADRADO	<input type="checkbox"/> QUADRADO
<input type="checkbox"/> TRIÂNGULO	<input type="checkbox"/> TRIÂNGULO	<input type="checkbox"/> TRIÂNGULO	<input type="checkbox"/> TRIÂNGULO








SÓLIDOS GEOMÉTRICOS







ESCREVA O NOME DOS SÓLIDOS GEOMÉTRICOS:





MARQUE OS OBJETOS QUE LEMBRAM UM CUBO: 

			
<input type="checkbox"/>	<input type="checkbox"/>	<input type="checkbox"/>	<input type="checkbox"/>

MARQUE OS OBJETOS QUE LEMBRAM UMA PIRÂMIDE: 

			
<input type="checkbox"/>	<input type="checkbox"/>	<input type="checkbox"/>	<input type="checkbox"/>

MARQUE OS OBJETOS QUE LEMBRAM UM PARALELEPÍPEDO: 

			
<input type="checkbox"/>	<input type="checkbox"/>	<input type="checkbox"/>	<input type="checkbox"/>

