



PREFEITURA DE SANTOS
Secretaria de Educação



UME: Professor Florestan Fernandes

ANO: 3º ano A e B

COMPONENTE CURRICULAR: Polivalente

PROFESSORES: Cecília Costa e Valéria Palmieri

PERÍODO DE 01/03/2021 até 12/03/2021

ROTEIRO DE ESTUDO

º ano

DATA	ATIVIDADE	ORIENTAÇÃO
01/03	LÍNGUA PORTUGUESA Leitura de interpretação	Assistir ao vídeo: Leitura e interpretação de texto. Disponível em: www.youtube.com/watch?v=oAuaPfkeESk&feature=youtu.be Fazer a leitura do POEMA : A foca Filó. No caderno, responder as questões propostas sobre o texto.
02/03	MATEMÁTICA Sistema de numeração decimal Unidade, Dezena, Centena	Assistir ao vídeo: Unidade, dezena , centena e material dourado Disponível em: www.youtube.com/watch?v=oGkaZQrMKf0&feature=youtu.be No caderno, decompor os números solicitados.
03/03	LÍNGUA PORTUGUESA Diferenciar vogal de consoante.	Assistir ao vídeo: Alfabeto -vogais e consoantes.

	Identificar número de sílabas.	Disponível em: www.youtube.com/watch?v=4YH-pgfypFY&feature=youtu.be No caderno, realizar as atividades propostas.
04/03	MATEMÁTICA Escrita por extenso dos números.	Assistir ao vídeo: Escrever por extenso. Disponível em: www.youtube.com/watch?v=HkSCnQ7SiT0&feature=youtu.be No caderno, escrever os números por extenso e organizá-los no quadro valor-lugar.
05/03	LÍNGUA PORTUGUESA Produção escrita	No caderno: 1-Numerar os desenhos de acordo com os acontecimentos. 2-Completar a história com as palavras mais adequadas.
08/03	LÍNGUA PORTUGUESA Sinais de Pontuação.	Assistir ao vídeo: Sinais de Pontuação Disponível em: www.youtube.com/watch?v=AjZ_q7EyjVg&feature=youtu.be No caderno: Ler e completar as frases. Ordenar as palavras e formar frases. Completar as frases com sinais de pontuação.
09/03	MATEMÁTICA Resolver continhas de adição e subtração.	Assistir aos vídeos: Adição. Disponível em: www.youtube.com/watch?v=DLuudRzGKH4&feature=youtu.be Subtração. Disponível em: https://www.youtube.com/watch?v=TeiojCJtm04&feature=youtu.be Resolver as contas propostas.

10/03	HISTÓRIA/GEOGRAFIA Cidade/campo Zona rural e zona urbana	Assistir ao vídeo: zona rural e zona urbana Disponível em: www.youtube.com/watch?v=t5Tu2Bu22t8&feature=youtu.be No caderno, completar o quadro utilizando as palavras dadas.
11/03	CIÊNCIAS Sistema Solar	Assistir ao vídeo Sol- Sistema Solar Disponível em : www.youtube.com/watch?v=agzCrVUgk7Q&feature=youtu.be No caderno, assinalar todas as alternativas corretas sobre o Sistema Solar.
12/03	LÍNGUA PORTUGUESA Ortografia: r/rr	Assistir ao vídeo: Uso do r/rr Disponível em: www.youtube.com/watch?v=CwR8pA5sdIg&feature=youtu.be No caderno, completar as palavras com r/rr. Separar as sílabas de acordo com a orientação

SEGUNDA-FEIRA: 01/03/2021

A FOCA FILÓ

ESTA É A FOCA FILÓ,
GULOSA COMO ELA SÓ.
COME FAROFA COM FILÉ,
DOCE DE FIGO E CAFÉ.

E ASSIM A FOCA FILÓ,
SABIDA COMO ELA SÓ,
APRENDEU NÃO SÓ A NADAR,
COMO TAMBÉM A DANÇAR
SAMBA, ROCK E ATÉ FORRÓ...

NA VERDADE, A FOCA FILÓ,
SAPECA COMO ELA SÓ,
GOSTA DE CAIR NA FOLIA,
SEJA DE NOITE OU DE DIA...



VAMOS INTERPRETAR O POEMA?

1 DE QUEM FALA O POEMA?

2 O QUE A FOCA FILÓ COME?

3 O QUE A FOCA FILÓ APRENDEU A FAZER?


4 COMPLETE AS RIMAS DE ACORDO COM O POEMA.

FILO RIMA COM

FILÉ RIMA COM

NADAR RIMA COM

FOLIA RIMA COM



TERÇA-FEIRA: 02/03/2021

Decomponha os números.

	CENTENA	DEZENA	UNIDADE
225			
387			
41			
934			
108			
596			

Faça como no exemplo.

5 centenas, 7 dezenas e 4 unidades: $500 + 70 + 4 = 574$

7 centenas, 1 dezena e 6 unidades:

9 centenas, 2 dezenas e 9 unidades:

1 centena, 3 dezenas e 1 unidade:

3 centenas, 8 dezenas e 3 unidades:

2 centenas, 4 dezenas e 4 unidades:

6 centenas, 7 dezenas e 2 unidades:

8 centenas, 3 dezenas e 4 unidades:


IDEIA CRIATIVA

QUARTA-FEIRA: 03/03/2021

1. Complete o quadro.

Nome	número de letras	número de vogais	número de consoantes	número de sílabas
macaco				
mola				
limonada				
macarrão				

2. Numere os desenhos de acordo com as palavras.



- | | | | | | | | |
|---|--------|---|-------------|---|-----------|---|------|
| 1 | médico | 2 | meia | 3 | macaco | 4 | mesa |
| 5 | mão | 6 | motocicleta | 7 | mamadeira | | |

QUINTA-FEIRA: 04/03/2021

		C	D	U
128	→ Cento e vinte e oito	1	2	8
87	→			
137	→			
37	→			
8	→			
235	→			
179	→			
153	→			
104	→			
26	→			
92	→			
204	→			
159	→			
163	→			
258	→			
2	→			
93	→			
138	→			
157	→			
85	→			
0	→			
277	→			

SEXTA-FEIRA: 05/03/2021

1) Numere as cenas de acordo com a ordem dos acontecimentos.



2) Use as palavras do quadro e complete a história.

**irmãos – surpresa – ingredientes – forno
aniversário – feliz – trabalho – livro**

Era _____ da mãe de Frederico e de Isabele.
Eles resolveram fazer-lhe uma surpresa.
Isabele pegou o _____ de receitas e os _____
para fazer o bolo.
Os dois _____ prepararam o bolo e o colocaram
no _____ para assar.
Quando mamãe chegou do _____, ficou
muito _____ com a _____ que os filhos
lhe prepararam.



Sinais de pontuação

- .** **Ponto final:** indica que a frase terminou.
- ?** **Ponto de interrogação:** usado em perguntas.
- !** **Ponto de exclamação:** usado para indicar admiração, surpresa, alegria, dor, etc.



Leia e complete as frases:

- a) Que lindo quadro!
Em frases exclamativas, usamos o ponto de _____
- b) Quem quer ser meu colega?
Em frases interrogativas, usamos o ponto de _____
- c) Clara é minha melhor amiga.
Em final de frases afirmativas usamos e ponto _____



Ordene as palavras e forme frases. Não se esqueça de colocar o sinal de pontuação!

árvore cortou O homem a não

sorvete vou tomar Amanhã um

cachorro pêssego O caiu do na cabeça


passar no Ele de parque gosta não

de tarde ao fui Ontem cinema

estrelada Que noite

aqui você Como chegou

meu Quero em dinheiro troco



Complete com os sinais de pontuação adequados:

- Quando ele voltará de viagem ____
- Que tarefa difícil ____
- Como o dia está bonito ____
- Anita gosta de biscoito ____
- Quantos anos você tem ____



1- Quero ver você resolver todas essas continhas. Vamos lá?

(Adição)

$$\begin{array}{r} +12 \\ +15 \\ \hline \square \end{array}$$

$$\begin{array}{r} +32 \\ +27 \\ \hline \square \end{array}$$

$$\begin{array}{r} +13 \\ +7 \\ \hline \square \end{array}$$

$$\begin{array}{r} +28 \\ +12 \\ \hline \square \end{array}$$

$$\begin{array}{r} +59 \\ +31 \\ \hline \square \end{array}$$

$$\begin{array}{r} +17 \\ +42 \\ \hline \square \end{array}$$

$$\begin{array}{r} +23 \\ +9 \\ \hline \square \end{array}$$

$$\begin{array}{r} +11 \\ +11 \\ \hline \square \end{array}$$



(Subtração)

$$\begin{array}{r} -95 \\ -15 \\ \hline \square \end{array}$$

$$\begin{array}{r} -18 \\ -12 \\ \hline \square \end{array}$$

$$\begin{array}{r} -32 \\ -11 \\ \hline \square \end{array}$$

$$\begin{array}{r} -45 \\ -23 \\ \hline \square \end{array}$$

$$\begin{array}{r} -78 \\ -18 \\ \hline \square \end{array}$$

$$\begin{array}{r} -63 \\ -42 \\ \hline \square \end{array}$$

$$\begin{array}{r} -57 \\ -34 \\ \hline \square \end{array}$$

$$\begin{array}{r} -84 \\ -53 \\ \hline \square \end{array}$$



QUARTA-FEIRA: 10/03/2021

A CIDADE E O CAMPO

Observe as faixas e preencha os quadros abaixo com suas respectivas faixas:

caminhos de terra indústria gado
 muitas escolas pouco barulho plantação
 carros áreas verdes clube trator
 teatro carroça lojas prédios

ruas pavimentadas

ZONA RURAL

ZONA URBANA

QUINTA-FEIRA: 11/03/2021

DATA ___ / ___ / ___

Nome _____


ATIVIDADES

Use dos seus conhecimentos prévios e assinale todas as alternativas corretas sobre o Sol.

- O Sol é:
 muito quente muito frio
- O Sol é:
 uma estrela um planeta uma galáxia
- O Sol se posiciona
 do lado do Sistema Solar no centro do Sistema Solar
- O planeta mais próximo do Sol é:
 a Terra Plutão Mercúrio
- Um eclipse solar ocorre quando:
 a Lua se interpõe entre a Terra e o Sol.
 Sol, Terra e Lua se alinham, estando a Terra no meio dos dois.
 O Sol fica entre a Terra e a Lua

0000000000

1. Cubra:



2. Complete com 'r' ou 'rr' e leia com atenção:

	se ote		te eno	
rr	ba aca		ca oça	
	co ida		r	ca etel
	ve uga			ga afa

 olha	 ede	
 ádio	 oupa	
r elógio		r iqueza
 odovia		 égua

3. Separe os pedacinhos:

Atenção: Na separação, os rr ficam separados
Assim: terra = ter - ra

marrom - arroz - torrada -
terraço - correio - cigarra -
marreco - gorro - serrote -

4. Leia rápido em voz alta, repetindo, e copie:

a) O rato roeu a roupa do rei de Roma.

.....

b) A aranha arranha o jarro. O jarro não arranha a aranha.

.....

.....