

U.M.E. MARTINS FONTES

ANO: 2° COMPONENTE CURRICULAR: LÍNGUA PORTUGUESA

PROFESSORA: GRAZIELLA

PERÍODO DE 08/02/2021 A 12/02/2021

NOME: _____ 2° ANO A

ATIVIDADE REMOTA DE LÍNGUA PORTUGUESA N° 01

OBSERVE O ALFABETO:



REESCREVA SOMENTE AS VOGAIS

REESCREVA SOMENTE AS CONSOANTES



NOME : _____ 2º ano A

ATIVIDADE REMOTA DE LÍNGUA PORTUGUESA Nº 02

1 - ESCREVA O SEU PRIMEIRO NOME:

2 - ESCREVA A PRIMEIRA LETRA DO SEU NOME.

3 - QUAL A ÚLTIMA LETRA DO SEU NOME?


4 - CONTE QUANTAS VOGAIS POSSUI CADA PALAVRA:

	MACACO	
	LEÃO	
	ELEFANTE	
	JACARÉ	

ATIVIDADE REMOTA DE LÍNGUA PORTUGUESA Nº 03



- PINTO O ALFABETO ABAIXO DE ACORDO COM AS CORES QUE A PROFESSORA DITAR.


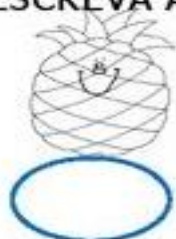


ESCREVA SEU NOME NO RETÂNGULO ABAIXO.

REGISTRE NO QUADRINHO A PRIMEIRA LETRA DO SEU NOME.

AGORA REGISTRE A ÚLTIMA LETRA DO SEU NOME.

ESCREVA A LETRA INICIAL DE CADA DESENHO.



NOME : _____

2º ano A

ATIVIDADE REMOTA DE LÍNGUA PORTUGUESA Nº 04

Ⓢ RISQUE O DESENHO QUE NÃO COMEÇA COM O SOM IGUAL AOS DEMAIS.

ESCREVA UMA PALAVRA INICIADA COM A LETRA:



A	
E	
I	
O	
U	

ESCREVA NAS LINHAS ABAIXO, NOMES DE PESSOAS COMEÇADAS POR:

A	
E	
I	
O	
U	

ESCREVA UMA LISTA DE PALAVRAS COM AS LETRAS DO ALFABETO

A		J		S	
B		K		T	
C		L		U	
D		M		V	
E		N		W	
F		O		X	
G		P		Y	
H		Q		Z	
I		R		-	-----

ATIVIDADE REMOTA DE LÍNGUA PORTUGUESA Nº 05

VOGAIS

1 - LEIA E ESCREVA NOS QUADRINHOS ABAIXO, A PRIMEIRA LETRA DE CADA PALAVRA.



AS LETRAS QUE VOCÊ REGISTROU SÃO AS **VOGAIS**.

2 - AGORA CIRCULE AS PALAVRAS INICIADAS POR **VOGAL**.

PATO

ANEL

URUBU

CASA

BOLA

IMÃ

LOJA

OVO

ESCOLA

RATO

ASA

GATO

www.amorensina.com.br


3 - COMPLETE AS PALAVRAS COM AS VOGAIS.



SONDAGEM INICIAL DE LÍNGUA PORTUGUESA

1) PINTA DE VERDE SOMENTE AS LETRAS ABAIXO E SEPARE OS NUMERAIS DENTRO DO CÍRCULO AO LADO:

H	1	M	7	♥
☆	R	2	8	C
A	5	←	L	3



2) CIRCULE AS LETRAS QUE O(A) ADULTO(A) DITAR:

B Z F A D G E U
 J S O L N R P V

3) ESCREVA DO SEU JEITO O NOME DOS BICHINHOS ABAIXO:









AGORA ESCOLHA UM DESSES BICHINHOS E ESCREVA UMA FRASE:

4) COMPLETE A SEQUÊNCIA ALFABÉTICA E PINTA AS VOGAIS:

A	B	C							
					Z				

U.M.E. MARTINS FONTES

ANO: 2° COMPONENTE CURRICULAR: MATEMÁTICA

PROFESSORA: GRAZIELLA

PERÍODO DE 08/02/2021 A 12/02/2021

NOME: _____ 2° ANO A

ATIVIDADE REMOTA DE MATEMÁTICA N° 01

CALENDÁRIO FEVEREIRO - 2021



Dom	Seg	Ter	Qua	Qui	Sex	Sab

1-PREENCHA O CALENDÁRIO DO MÊS DE FEVEREIRO.

2-QUANTOS DIAS TEM ESTE MÊS?

3- QUEM DIA DA SEMANA COMEÇOU O MÊS DE FEVEREIRO?

4-O DIA 28 DE FEVEREIRO CAI EM QUE DIA DA SEMANA?

ATIVIDADE REMOTA DE MATEMÁTICA Nº 02**Matemática**

1 - OBSERVE OS DESENHOS E COMPLETE.

A) QUANTAS BORBOLETAS NA CENA? B) QUANTAS JOANINHAS? C) QUANTAS JOANINHAS DO LADO
ESQUERDO DA JARDINEIRA? D) QUANTAS JOANINHAS DO
LADO DIREITO DA JARDINEIRA? E) QUANTAS FLORES? F) QUANTAS JOANINHAS DO LADO
DIREITO DA BORBOLETA? G) QUANTAS JOANINHAS EM CIMA DA FLOR?

ATIVIDADE REMOTA DE MATEMÁTICA Nº 03**CONTANDO E REGISTRANDO ATÉ 10**





















$1 + 3 =$
$2 + 1 =$
$1 + 1 =$
$3 + 2 =$
$6 + 1 =$
$4 + 2 =$
$3 + 4 =$
$6 + 3 =$
$7 + 2 =$
$2 + 8 =$
$4 + 6 =$
$1 + 7 =$
$7 + 2 =$
$5 + 3 =$























$4 + 2 =$
$3 + 6 =$
$5 + 2 =$
$5 + 5 =$
$4 + 4 =$
$2 + 5 =$
$5 + 4 =$
$8 + 1 =$
$3 + 1 =$
$6 + 0 =$
$8 + 2 =$
$3 + 0 =$
$9 + 1 =$
$2 + 4 =$

ATIVIDADE REMOTA DE MATEMÁTICA Nº 04


DESCUBRA OS NÚMEROS QUE ESTÃO NO LUGAR DOS SÍMBOLOS.

1	2	3		5			8		
11			14		16	17		19	20
21		23		25	26		28		30
31	32		34	35		37		39	40
41	42	43			46			49	50


	<input type="text"/>		<input type="text"/>		<input type="text"/>		<input type="text"/>
	<input type="text"/>		<input type="text"/>		<input type="text"/>		<input type="text"/>
	<input type="text"/>		<input type="text"/>		<input type="text"/>		<input type="text"/>
	<input type="text"/>		<input type="text"/>		<input type="text"/>		<input type="text"/>
	<input type="text"/>		<input type="text"/>		<input type="text"/>		<input type="text"/>

ATIVIDADE REMOTA DE MATEMÁTICA Nº 05**PROBLEMINHAS**

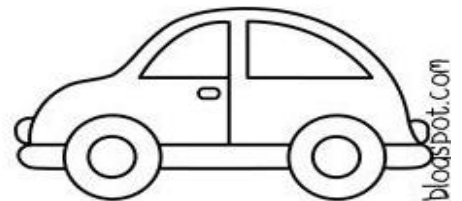
NUMA FAZENDA HAVIA 8 VAQUINHAS E 3 BOIS. QUANTOS ANIMAIS A FAZENDA TINHA NO TOTAL?



O AQUÁRIO DE ALICE POSSUI 5 PEIXINHOS DOURADOS E 4 PEIXES PALHAÇO. QUANTOS PEIXES NO TOTAL ALICE TEM?



PEDRO TEM 7 CARRINHOS E FÁBIO TEM 6. JUNTOS ELES TEM QUANTOS CARRINHOS?



LARA COMPROU UMA BONECA DE 9 REAIS E UMA BOLA QUE CUSTOU 5 REAIS. QUANTO ELA GASTOU?



1^a APOSTILA DE ATIVIDADES
ENSINO REMOTO - 2º ANO A
(DE 08/02/2021 A 12/02/2021)



DICAS:

- AS ATIVIDADES DEVEM SER REALIZADAS EM UM LUGAR CALMO, LIMPO E ORGANIZADO.
- OS FAMILIARES DEVEM AJUDAR, MAS NUNCA FAZEREM PELA CRIANÇA.
- FAÇA AS ATIVIDADES EM DIA. EVITE DEIXAR ACUMULAR ATIVIDADES. MAS TAMBÉM NÃO FAÇA TUDO DE UMA SÓ VEZ. O OBJETIVO É CRIAR HÁBITOS DE ESTUDOS DIÁRIOS, COMO FAZEMOS NA ESCOLA PRESENCIAL.
- A PROFESSORA ESTARÁ NO GRUPO DE WHATSAPP EM HORÁRIOS ESPECÍFICOS PARA TIRAREM AS DÚVIDAS QUE SURGIREM. TEL.DA ESCOLA:(13) 3296-1059
- FAÇA TUDO COM BASTANTE CAPRICHOS! VOCÊ É CAPAZ!

ESTE MATERIAL FOI PREPARADO COM MUITO CARINHO E CUIDADO.LOGO, LOGO ESTAREMOS JUNTOS! SE CUIDEM ! TUDO VAI FICAR BEM! ABRAÇOS! PROFESSORA GRAZIELLA

NOME: _____ **2º ANO** _____