

ROTEIRO DE ESTUDOS / ATIVIDADES REMOTAS

UME DEP. RUBENS LARA

ANO: 2º ANO

PROFESSORAS: ROSE, TINA, RENATA, GRACIONE E TIAGO

PERÍODO DE 07/12 A 18/12/2020

O ano foi muito difícil, mas com muita fé e esperança, logo estaremos juntos. A seguir, teremos algumas atividades natalinas para finalizar o ano no clima.



Bom Natal e um 2021 cheio de Paz e Esperança.



LÍNGUA PORTUGUESA

**NATAL É TEMPO DE AMOR E PAZ.
NO NATAL VIVEMOS A ALEGRIA
DE VIVER EM CRISTO.**



- Encontrar no caça-palavras abaixo todas as palavras referentes ao Natal.

A	M	O	R	A	B	C	S	I	N	O	D	E
F	A	L	E	G	R	I	A	G	H	W	J	K
L	M	N	O	P	Q	P	C	R	I	S	T	O
E	S	T	R	E	L	A	R	S	V	E	L	A
T	U	V	X	Z	A	Z	B	C	D	L	E	F
G	H	P	R	E	S	E	N	T	E	S	I	J

Presente de Natal

Era noite de Natal. Na sala havia uma linda árvore!
Luíza escreveu uma carta para o Papai Noel pedindo uma boneca que fala.

Naquela noite o trenó do Papai Noel estragou. Por isso ele atrasou com a entrega dos presentes.

Luíza foi dormir muito triste, pois já era meia noite e Papai Noel não apareceu.

No outro dia, Luíza levantou desanimada, mas quando chegou na sala, ficou encantada!

Perto da árvore havia uma linda boneca que Papai Noel deixou durante a madrugada.




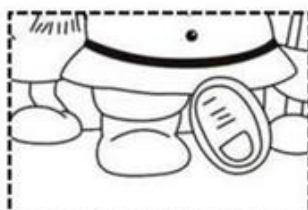


INTERPRETANDO O TEXTO

Numere os parágrafos do texto.

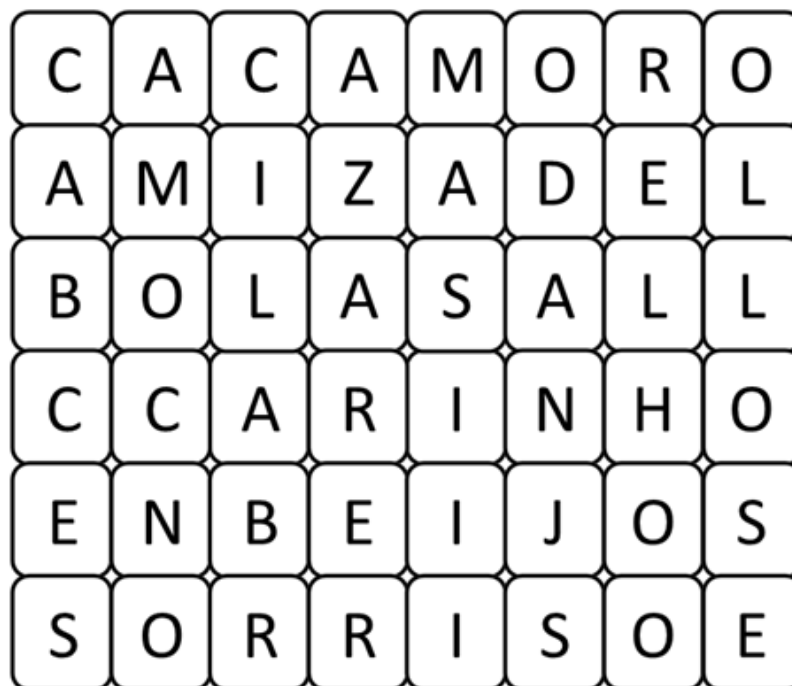
Responda:

O que Luíza pediu ao Papai Noel?

QUEBRA-CABEÇA



NOME: _____



É TEMPO DE NATAL

ESCOLHA ALGUMAS DAS PALAVRAS DA ÁRVORE DE NATAL E ESCREVA UM POEMA COM O TÍTULO "É TEMPO DE NATAL".



MATEMÁTICA

Biscoitos Natalinos



Ingredientes

Para a massa

330 gramas de manteiga mole
180 gramas de açúcar refinado
Raspas de 1 limão
1 colherinha de baunilha
450 gramas de farinha de trigo

Para a cobertura

1 1/3 xícara de açúcar de confeiteiro
2 colheres de água
Flocos para decorar

<http://www.boladademulher.com/receita/580/como-fazer-biscoitos-para-o-natal>

Júlia e Pedro estão fazendo deliciosos biscoitos natalinos para o Papai Noel. Observe os ingredientes utilizados na receita e responda.

Qual número de ingredientes necessários?

Escreva os nomes dos ingredientes líquidos?

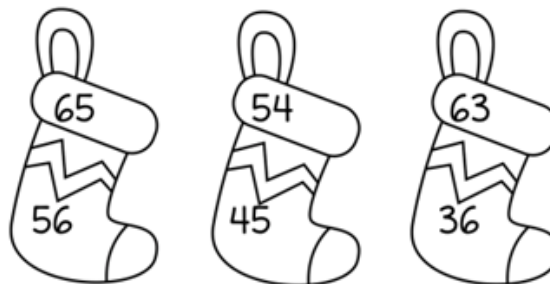
Agora, escreva os nomes dos ingredientes sólidos.

Resolva as situações problema.

A receita de Júlia e Pedro renderá 50 biscoitos. Do total, 28 biscoitos serão deixados na lareira para o Papai Noel. Quantos biscoitos sobrarão?

Júlia resolveu fazer mais uma fornada de biscoitos. Pedro ajudou cortando em forma de corações, círculos e estrelas. Foram cortados 22 corações, 19 círculos e 3 estrelas. Quantos biscoitos foram cortados no total?

Circule o número maior.




Observe e responda:

Maior número:

Menor número:

Números pares:

Números ímpares:



ARME E RESOLVA

$13 + 7 =$

D	U

$60 + 7 =$

D	U

$90 + 3 =$

D	U

$63 + 8 =$

D	U

$16 + 22 =$

D	U

$45 + 12 =$

D	U

$30 + 22 =$

D	U

$37 + 13 =$

D	U

$37 + 35 =$

D	U

$19 + 17 =$

D	U





$15 + 38 =$

D	U

$50 + 24 =$

D	U

CONTE AS BOLAS DE CADA ÁRVORE E ESCREVA ABAIXO:



NUMERE AS ESTRELAS:



$\cancel{\bigcirc} \cancel{\bigcirc} \bigcirc \bigcirc = 4 - 2 = \underline{\quad}$

$\cancel{\bigcirc} \bigcirc \bigcirc = 3 - 1 = \underline{\quad}$

$\cancel{\bigcirc} \cancel{\bigcirc} \bigcirc \bigcirc \bigcirc = 5 - 2 = \underline{\quad}$

- RETIRE AS VOGAIS DAS PALAVRAS:

Á R V O R E : NO I T E :

DÊ O ANTECESSOR

3	5	2
1	7	4

E O SUCESSOR:

4	7	8
2	5	3