



PREFEITURA DE SANTOS
Secretaria de Educação



Atividade

UME PREFEITO ESMERALDO TARQUÍNIO

ANO: CICLO II T1

COMPONENTE CURRICULAR: História

PROFESSOR: Hebe kuwahara

PERÍODO: 03/08/2020 a 14/08/2020

Contagem do Tempo

A Contagem do Tempo na História varia de acordo com cada povo e época.

Os primeiros povos fizeram seus calendários tendo como referência os ciclos da natureza, suas crenças e seus costumes.

Por isso, nem todos os países seguem o mesmo calendário.

Tempo Cronológico e Tempo Histórico

O tempo cronológico é definido como o tempo onde se desenrolam as atividades humanas: nascimento, crescimento, ir para a escola, as festas, etc.

O tempo histórico são os acontecimentos que marcam um povo, uma nação, ou as vezes a humanidade.

Como exemplo poderíamos citar uma guerra, a construção de uma grande obra, a descoberta da cura de uma doença, etc.

Como nem sempre o tempo cronológico e o histórico coincidem, existem povos que vivem diferentes momentos históricos no mesmo tempo cronológico.

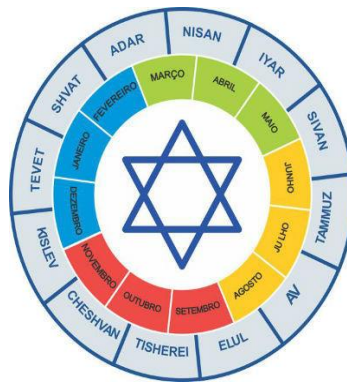
Exemplo: apesar de vivermos numa sociedade informatizada, várias pessoas ainda não têm acesso a essa tecnologia.

Mesmo dentro da sociedade informatizada existem vários níveis de conexão também.

Religião

A religião de um indivíduo e de um povo talvez seja o elemento que mais influencie na criação de um calendário.

Judaísmo



Calendário judaico com os nomes dos meses em hebraico e seus correspondentes no calendário cristão

Os judeus contam o tempo a partir da criação do universo, que para eles teria ocorrido há cerca de seis mil anos.

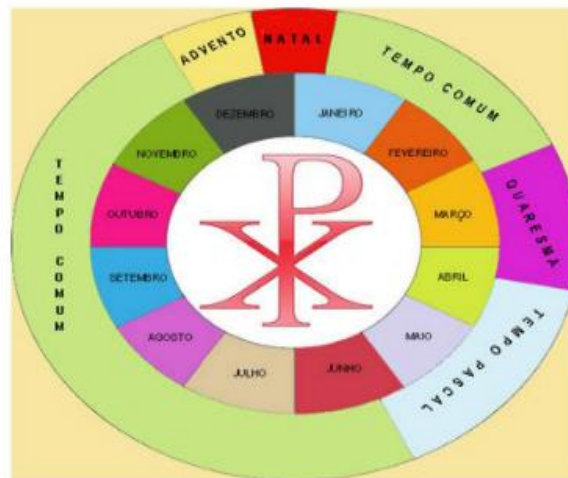
Islamismo



Calendário islâmico com os nomes dos meses em árabe e seus correspondentes ao calendário cristão

Os muçulmanos têm como referência o ano em que Maomé fugiu de Meca para Medina, isso ocorreu 622 anos depois do nascimento de Cristo. Em países como a Arábia Saudita este é o calendário observado.

Cristianismo



Calendário cristão e o tempo litúrgico observado pela Igreja Católica Romana

Para os cristãos os acontecimentos são registrados entre o que aconteceu antes de Cristo (a.C.) e depois do nascimento de Cristo (d.C.).

Para a história ocidental, as datas referenciadas antes de Cristo devem ser seguidas de a.C., já os fatos ocorridos depois não necessitam da sigla d.C.

É importante ressaltar que nem todas as igrejas cristãs seguem este calendário. A Igreja Católica Ortodoxa não aderiu à reforma gregoriana e manteve o calendário juliano.

Divisão dos Séculos

Quando nos referimos ao século I estamos focando os acontecimentos ocorridos entre o ano 1 e o ano 100. O século II foca aos acontecimentos ocorridos entre o ano 101 e o ano 200.

O século III compreende os fatos ocorridos entre o ano 201 e o ano 300.

Vivemos hoje no século XXI que corresponde os fatos ocorridos no período que teve início no ano 2001 e vai se prolongar até o ano 2100.

Atividade

1) Leia as questões abaixo e coloque V(verdadeiro) OU F(falso)

a) O tempo histórico são os acontecimentos que marcam um povo, uma nação, ou as vezes a humanidade.
()

b) O tempo cronológico é definido como o tempo onde se desenrolam as atividades humanas: nascimento, crescimento, ir para a escola, as festas, etc. ()

c) Para os cristãos os acontecimentos são registrados entre o que aconteceu antes de Cristo (a.C.) e depois do nascimento de Cristo (d.C.).()

2) Assinale a alternativa correta:

Para os judeus o tempo é contado a partir da criação do universo que para eles teria ocorrido a:

a) TRES MIL ANOS

B) SEIS MIL ANOS

C) QUATRO MIL ANOS

D) DOIS MIL E VINTE ANOS

3) Explique como os judeus contam o tempo.

4) Para os cristãos os acontecimentos são registrados entre o que aconteceu antes de Cristo (a.C.) e depois do nascimento de Cristo (d.C.).

- a) A assertiva está totalmente correta.
- b) A assertiva está parcialmente correta.
- c) A assertiva está totalmente errada.
- d) A assertiva está parcialmente errada.

5) Quando nos referimos ao século I estamos focando os acontecimentos ocorridos entre o ano 1 e o ano 100.

O século II teria acontecimentos entre o ano ___ e o ano ____.

Escolha a alternativa que complete a assertiva acima

- a) 201 a 300
- b) 401 a 500
- c) 601 a 700
- d) 301 a 400

6) Explique como os islâmicos contam o tempo.

Divisão da História

A atual divisão da história vem do cientificismo e do iluminismo do século XVIII e do positivismo do século XIX.

As ciências naturais dão grande importância para sistematização e classificação de objetos e isto acabou influenciando as ciências humanas.

Pré-história

Desta maneira, os escritores desta época determinaram que o que distinguiria os povos civilizados seria a escrita. Aqueles que não a desenvolveram seriam, portanto, considerados como bárbaros.

Os povos que viveram antes do surgimento da escrita são referidos nos livros como povos pré-históricos, não fazendo parte dos quatro grandes períodos da história da humanidade.

A pré-história é estudada em dois grandes períodos:

- Idade da Pedra: está compreendido entre o aparecimento dos primeiros hominídeos a mais ou menos 10000 a.C.,
- Idade dos Metais: quando os hominídeos iniciaram a fabricação de objetos com metal. Dura de 5000 a.C. até o surgimento da escrita, por volta de 3500 a.C.

Idade Antiga

A Idade Antiga ou Antiguidade é contada do surgimento da escrita, mais ou menos 4000 anos a.C., até a queda do Império Romano, no ano de 476 (século V).

Esse período é dividido também a partir da localização geográfica dos povos. Deste modo temos:

- Antiguidade Oriental: incluindo a civilização egípcia, a mesopotâmica, os fenícios, hebreus e persas;

- Antiguidade Ocidental ou Clássica: que envolve gregos e romanos.

Idade Média

A Idade Média é um período de aproximadamente mil anos. Começa com a queda do Império Romano, em 476, e vai até a tomada de Constantinopla pelos turcos-otomanos em 1453 (século XV).

Esse período é dividido em:

- Alta Idade Média: período compreendido entre os séculos V e XI, que corresponde, em termos de Europa, à formação, desenvolvimento e apogeu do sistema feudal;
- Baixa Idade Média: período entre os séculos XI e XV, que corresponde à desagregação do sistema feudal e a consequente transição para o sistema capitalista.

Idade Moderna

A Idade Moderna é o período histórico que se estende de 1453 (século XV) até 1789 (século XVIII) início da Revolução Francesa.

No plano econômico, essa época foi marcada pelo desenvolvimento do capitalismo comercial (ou mercantil), forma inicial do sistema capitalista.

Foi uma época marcada pelas viagens de expansão marítima, onde Portugal realizou as Primeiras Grandes Navegações.

Idade Contemporânea

A Idade Contemporânea é o período que se estende do século XVIII até os dias atuais.

Ao longo dessas décadas, a Revolução Industrial atingiu seu ponto culminante. É uma era marcada pelas duas grandes guerras mundiais.

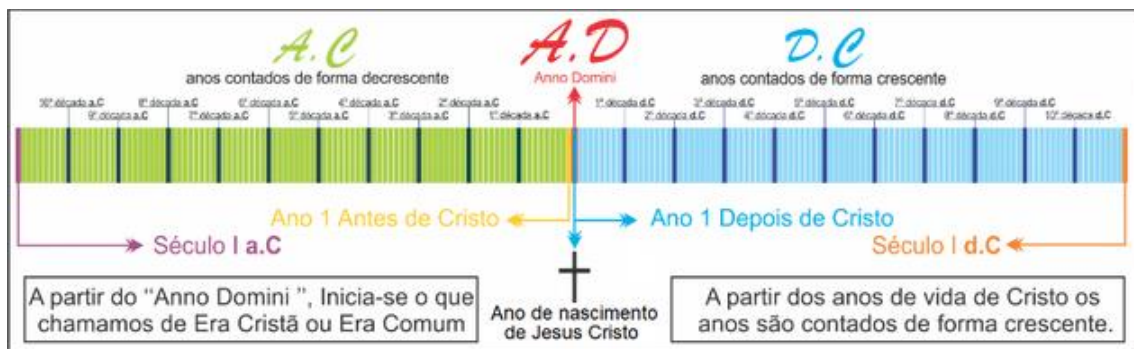
Na América Latina, o início da Idade Contemporânea foi marcado pelas lutas de independência que modelaram o novo mapa político do continente.

Linha do Tempo

No Ocidente, onde predominou a religião cristã, a História foi ensinada como uma disciplina que possuía começo, meio e fim.

O começo seria o nascimento de Cristo, o meio seria a história atual e fim, o momento que Cristo voltasse a Terra.

Deste modo, as "linhas do tempo" foram se popularizando no mundo ocidental:



No entanto, nem todos os povos pensavam que o tempo era uma linha reta.

Para os maias, astecas e outros povos nativos da América o tempo era uma repetição, ciclos que aconteciam uma e outra vez eternamente.

Por isso, o calendário asteca era apresentado de forma circular e não linear:



Atividades

1) Após a leitura do texto explique como era dividida a Pré História.

2) Após a leitura do texto, assina-le V
(verdadeiro) ou F (falso)

a) Aqueles povos que não desenvolveram a escrita seriam, considerados como bárbaros.()

b) A Idade Contemporânea é o período que se estende do século XVIII até os dias atuais ()

c) Para os maias, astecas e outros povos nativos da América o tempo era uma repetição, ciclos que aconteciam uma e outra vez eternamente ()

3) Sobre a Idade Média escolha dois fatos que lhe chamou a atenção e explique porque.

4) Sobre a Idade Moderna escolha dois fatos que lhe chamou a atenção e explique porque.

5) Sobre a Idade Antiga escolha dois fatos que lhe chamou a atenção e explique porque.

6) Sobre a Idade Antiga escolha dois fatos que lhe chamou a atenção e explique porque.
