

ROTEIRO DE ESTUDOS

UME: "DR JOSÉ CARLOS DE AZEVEDO JÚNIOR"

ANO: 3º A/B

COMPONENTE CURRICULAR: LÍNGUA PORTUGUESA E
MATEMÁTICA (X) INTEGRADO

PROF^{as}.: DEJANE/ MARCIA

PERÍODO DE 08/06/2020 a 10/06/2020

Atividade dia 08/06: Língua Portuguesa: Leitura,
Interpretação textual e produção de lista.

NOME: _____ TURMA: _____
DATA: ___/___/___



ASTRONAUTA É UM PERSONAGEM INTERPLANETÁRIO.
SUA NAVE PARECE UMA BOLA E SEU MELHOR AMIGO É UM COMPUTADOR.
VOLTA E MEIA RETORNA À TERRA PARA MATAR SAUDADES DE SUA FAMÍLIA.
GOSTA DE VIAJAR PELO ESPAÇO EM BUSCA DE VIDA FORA DA TERRA.

1. CIRCULAR NO TEXTO O NOME DO PERSONAGEM.


2. MARCAR COM UM "X" A RESPOSTA CERTA:

- SEU MELHOR AMIGO É UM:
 EXTRATERRESTRE MENINO COMPUTADOR
- SUA NAVE SE PARECE COM UMA:
 GARRAFA BOLA TELEVISÃO
- ELE VOLTA À TERRA PARA MATAR SAUDADES DE SUA:
 FAMÍLIA PROFESSORA CACHORRINHA

ALFABETIZANDO COM MÔNICA E TURMA

NOME: _____ TURMA: _____

DATA: ___/___/___



BIDU É O CACHORRO DE ESTIMAÇÃO DO FRANJINHA. TEM PELOS AZUIS E UMA BARBA PARECIDA COM O CABELO DO SEU DONO.
TEM SUAS PRÓPRIAS HISTÓRIAS, ONDE FALA COM OBJETOS, COMO A DONA PEDRA, E OUTROS ANIMAIS.
SEU MELHOR AMIGO É DUQUE, UM CACHORRINHO MARROM.

1. CIRCULAR NO TEXTO O NOME DO PERSONAGEM.

2. MARCAR COM UM "X" A RESPOSTA CERTA:

▪ BIDU É UM:

CACHORRO

GATO

PORCO

▪ SUA COR É:

BRANCA

PRETA

AZUL

▪ SEU MELHOR AMIGO É:

FRANJINHA

DUQUE

DONA PEDRA

Faça uma lista com nomes de animais domésticos.
(no caderno após colar as folhas)

- **Matemática:** atividade do livro EMAI (pág 16 (exercício 2.4) e 17 (exercício 2.5)

- Atividade na folha (colar no caderno)

20. Escreva o número correspondente a:

a) uma dezena e seis unidades

b) três dezenas e nove unidades

c) oito dezenas e duas unidades

d) seis dezenas e três unidades

e) quatro dezenas e sete unidades

f) nove dezenas e nove unidades

21. Pinte da mesma cor os retângulos que estão relacionados.

10 u	7 D	40 u	60 u	20 u	80 u
30 u	90 u	1 D	5 D	8 D	50 u
4 D	2 D	6 D	3 D	70 u	9 D

22. Veja as várias possibilidades de compor um número. Observe o exemplo e complete.

64	75
$30 + 30 + 4$	$40 + 30 + 5$
$40 + 20 + 4$	$40 + 20 + 10 + 5$
$20 + 20 + 20 + 4$	
$30 + 20 + 10 + 4$	
$50 + 10 + 4$	

86
$40 + 40 + 6$
$40 + 20 + 20 + 6$

23. Brinque com seus colegas. Use a calculadora se preferir. Ligue os pontos

Mágica dos números

a) Pense em um número natural de dois algarismos.

b) Multiplique-o por 2.

c) Some 5 ao resultado.

d) Multiplique o resultado por 5.

e) Escrita o algarismo da ordem das unidades.

f) Subtraia 2 do número que resta.

O resultado é o número que você pensou!

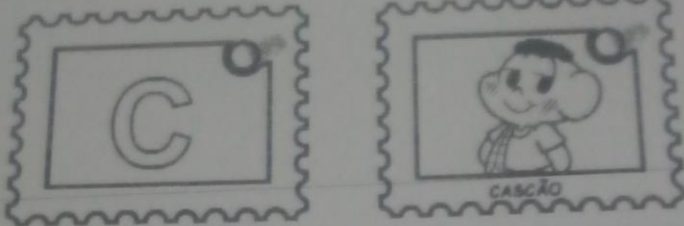


Atividade do dia 09/06:

- **Língua Portuguesa e Ciências:** Leitura, interpretação, lista e pesquisa.

NOME _____ TURMA _____

DATA _____



CASCÃO É O MELHOR AMIGO DO CEBOLINHA. SEU ANIMAL DE ESTIMAÇÃO É UM PORQUINHO. NUNCA TOMA BANHO, POR ISSO SEMPRE ESTÁ SUJO. TEM MUITO MEDO DE ÁGUA. GOSTA DE RECICLAR OBJETOS VELHOS PARA FAZER BRINQUEDOS.

1. CIRCULAR NO TEXTO O NOME DO PERSONAGEM.

2. MARCAR COM UM "X" A RESPOSTA CERTA:

- CASCÃO É O MELHOR AMIGO DO:
 FRANJINHA CEBOLINHA ASTRONAUTA
- SEU ANIMAL DE ESTIMAÇÃO É UM:
 PORCO RATO CACHORRO
- ELE TEM MEDO DE:
 ESCURO FOGO ÁGUA

RECICLANDO COM A CÍRCULA E TURMA


Pesquise e responda (no caderno):

a) Por que precisamos reciclar?

b) Quais os objetos podem ser reciclados? Dê exemplos.

NOME: _____ TURMA: _____

DATA: ____/____/____



CEBOLINHA É UM GAROTO COM CINCO FIOS DE CABELOS QUE, QUANDO FALA, TROCA O "R" PELO "L".

ESTÁ SEMPRE INVENTANDO "PLANOS INFALÍVEIS", QUE SEMPRE DÃO ERRADO, PARA DERROTAR A MÔNICA E SE TORNAR O DONO DA RUA. TEM CACHORRO CHAMADO FLOQUINHO. SEU MELHOR AMIGO É O CASCÃO.

1. CIRCULAR NO TEXTO O NOME DO PERSONAGEM.

2. MARCAR COM UM "X" A RESPOSTA CERTA:

• CEBOLINHA QUER SER O:

DONO DO BAIRRO DONO DA RUA DONO DA LUA

• O NOME DE SEU CACHORRO É:

FLOQUINHO SORVETINHO BISCOITINHO

• SEU MELHOR AMIGO É O:

XAVECO FRANJINHA CASCÃO

Faça uma lista de cinco palavras com:

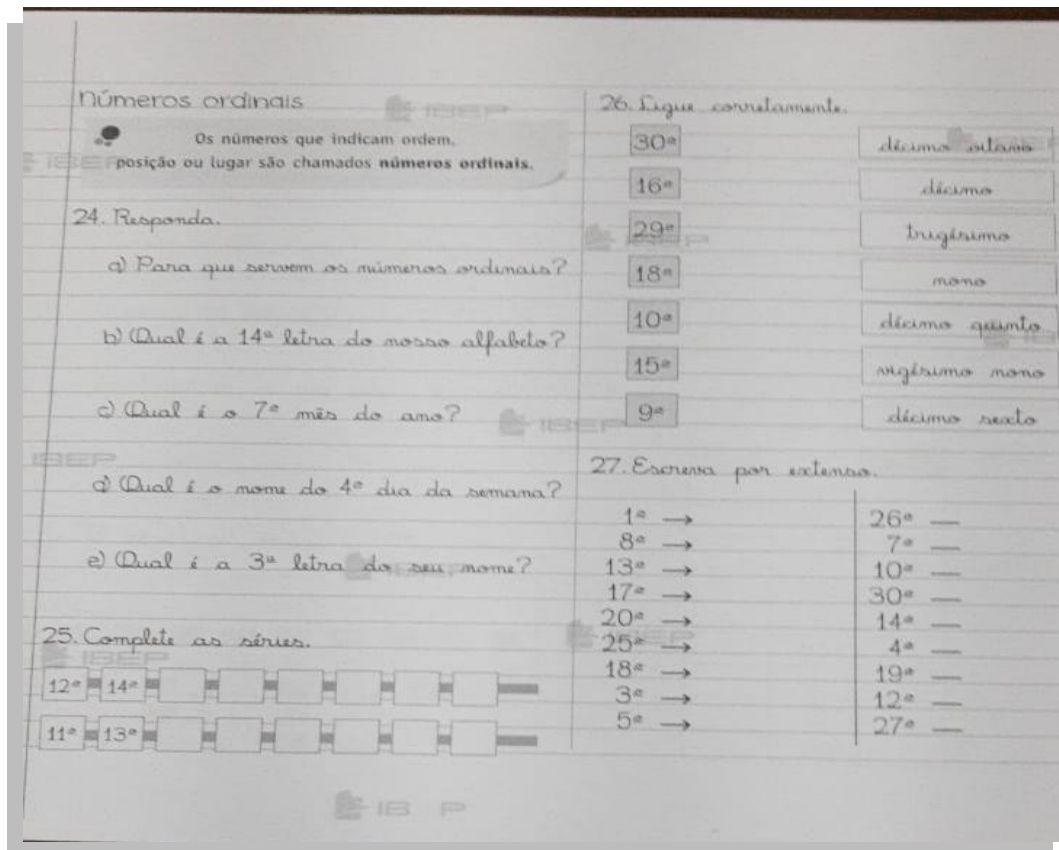
L no início/ L no meio/ L no final/ R no meio/ RR

- **Matemática:** atividade do livro EMAI (pág.19 exercício 3.2), segue as imagens dos folhetos para a atividade



Atividade na folha (colar no caderno, segue um vídeo que será postado no grupo.

<https://youtu.be/fvtjQLkufoE>


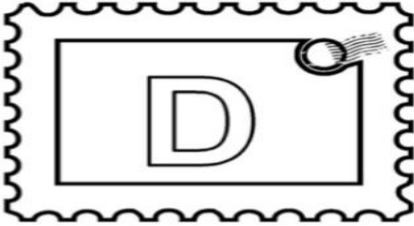



Atividade do dia 10/06:

- Língua Portuguesa e Ciências: leitura, interpretação, pesquisa e relato, pontuação.

NOME: _____ TURMA: _____

DATA: ____/____/____



DORINHA

DORINHA É UMA MENINA CEGA, QUE RECONHECE SEUS AMIGOS PELA VOZ E PELO CHEIRO. USA ÓCULOS ESCUROS E UMA BENGALA. ESTÁ SEMPRE ACOMPANHADA DE SEU CÃO GUIA, UM LABRADOR ESPERTO E CARINHOSO, QUE SE CHAMA RADAR.

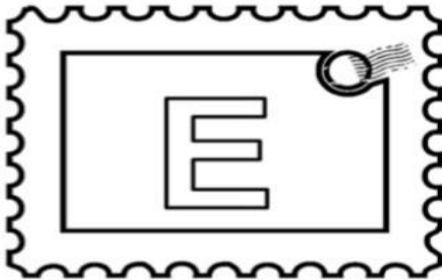

BRINCA COMO QUALQUER CRIANÇA E SURPREENDE SEUS AMIGOS COM SUAS HABILIDADES E SENTIDOS BASTANTE DESENVOLVIDOS.

1. CIRCULAR NO TEXTO O NOME DO PERSONAGEM.
2. MARCAR COM UM "X" A RESPOSTA CERTA:
 - DORINHA É UMA MENINA QUE NÃO CONSEGUE:
 ENXERGAR OUVIR ANDAR
 - ELA USA ÓCULOS ESCUROS E:
 MULETA BENGALA CADEIRA DE RODAS
 - RADAR É UM:
 CAVALO CÃO POLICIAL CÃO GUIA

E você o que sabe dessa raça de cães? Pesquise e faça um pequeno relato sobre eles, não se esqueça de respeitar e utilizar os sinais de pontuação.

NOME: _____ TURMA: _____

DATA: ____/____/____



ESTEGO É UM ESTEGOSSAURO, AMIGO DO HORÁCIO. SUA COR É AZUL.
ASSIM COMO OS ESTEGOSSAUROS QUE EXISTIRAM A MILHÕES DE ANOS, ELE É VEGETARIANO, OU SEJA, SÓ SE ALIMENTA DE VEGETAIS.
É BASTANTE SONHADOR.

1. CIRCULAR NO TEXTO O NOME DO PERSONAGEM.

2. MARCAR COM UM "X" A RESPOSTA CERTA:

▪ ESTEGO É UM:

CACHORRO

DINOSSAURO

PÁSSARO

▪ SUA COR É:

MARRON

VERDE

AZUL

▪ ELE SE ALIMENTA DE:

VEGETAIS

PEIXES

CARNE

3- O que é um Estegossauro?

4- O que são vegetais?

5- Faça uma lista dos vegetais que sua família está acostumada a comprar.

- **Matemática:** atividade do livro EMAI (pág 22 exercício 3.5)
- Atividade na folha (colar no caderno)

28. Leia e responda se os números indicam ordem ou quantidade.

a) No ônibus havia um total de 15 passageiros.

André sentou-se na 15ª poltrona do ônibus.

b) Luciano é o décimo segundo da lista de chamada.

A classe de Luciano possui 12 meninos e 12 meninas.

c) O sorveteiro vendeu 20 sorvetes.

O sorveteiro vendeu o 20º sorvete.

29. Complete.

1º 2º 3º 4º 5º 6º 7º 8º 9º 10º
 quinto segundo quarto décimo
 oitavo sétimo sexto
 décimo nono primeira

30. Represente em algarismos.

décimo sexto décimo primeiro

quinto sexto

vigésimo vigésimo terceiro

vigésimo sétimo trigesimo

décimo oitavo vigésimo nono

31. Escreva o ordinal que vem imediatamente antes e o que vem imediatamente depois.

Antes		Depois
	5º	
	24º	
	16º	
	20º	
	9º	
	27º	
	3º	
	12º	
	29º	

16