

Página 16 do livro do aluno Atividade 3 localizando números racionais na reta numérica.

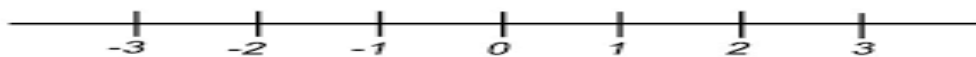
Iremos fazer apenas este exercício.

Vamos trabalhar nessa atividade a localização de um número na reta numérica.


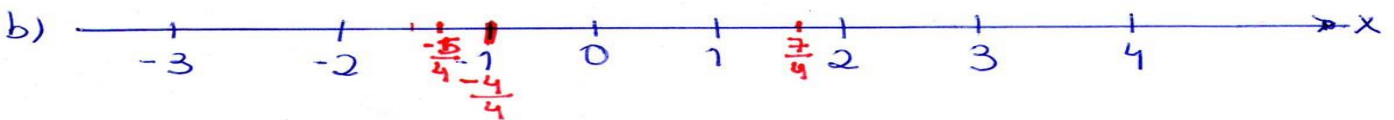


O que você precisa saber

A reta numérica tem números negativos (-) e números positivos (+) observe.



Nesta reta vai até o número 3 positivo e 3 negativo, você pode aumentar os números na medida que precise.



Caso não consiga resolver pode me chamar no privado ou fazer uma chamada de vídeo que lhe ajudo.

Bons estudos.