

COMPLETE AS PALAVRAS USANDO AS VOGAIS.



P _ C _ L _ ' _



R _ P _ S _ _



C _ B _ D _ _



P _ _ N _




T _ C _ N _




NOME:

DATA:

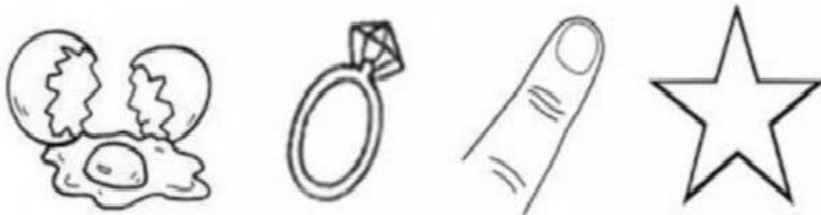
CONTE AS PÉTALAS E LIGUE



ESCREVA A PRIMEIRA LETRA.









NOME: _____

MATEMÁTICA

TREINANDO ADIÇÃO

$$\begin{array}{r} 4 \\ + 1 \\ \hline \square \end{array}$$

$$\begin{array}{r} 2 \\ + 4 \\ \hline \square \end{array}$$

$$\begin{array}{r} 5 \\ + 1 \\ \hline \square \end{array}$$



$$\begin{array}{r} 6 \\ + 3 \\ \hline \square \end{array}$$

$$\begin{array}{r} 7 \\ + 2 \\ \hline \square \end{array}$$

$$\begin{array}{r} 5 \\ + 4 \\ \hline \square \end{array}$$

$$\begin{array}{r} 2 \\ + 6 \\ \hline \square \end{array}$$


$$\begin{array}{r} 4 \\ + 3 \\ \hline \square \end{array}$$

$$\begin{array}{r} 6 \\ + 1 \\ \hline \square \end{array}$$




Nome: _____

COMPLETE COM AS VOGAIS




V.....C.....




V.....L.....



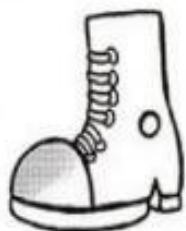
B.....L.....



S.....L.....



.....V.....



B.....T.....



C.....P.....



L.....V.....



D.....D.....

Aluno: _____

PINTANDO CONJUNTOS

① PINTE O QUADRINHO QUE CORRESPONDE À QUANTIDADE DE OBJETOS EM CADA CONJUNTO.

1	2	3

3	4	5

5	6	7

6	7	8

ATIVIDADE

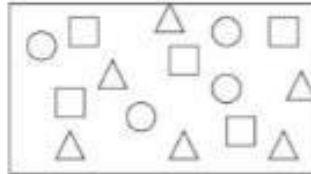
EU SOU: _____

A  LETRINHA DO DIA É...

1- FAÇA O CONTORNO DA LETRA COM TINTA GUACHE VERDE.




OBSERVE O QUADRO ABAIXO E RESPONDA:



- a) QUANTOS CÍRCULOS HÁ NO QUADRO? _____
- b) QUANTOS TRIÂNGULOS? _____
- c) QUANTOS QUADRADOS? _____
- d) QUANTAS FIGURAS HÁ NO TOTAL? _____

OBSERVE O QUADRO DE ESTRELAS E RESPONDA:




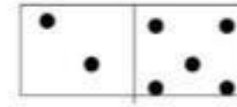

QUANTAS ESTRELAS HÁ NO QUADRO?



DITADO DE NUMERAIS:

--	--	--	--	--




SOME AS QUANTIDADES NOS DOMINÓS:



_____ + _____ = _____

_____ + _____ = _____

_____ + _____ = _____



_____ + _____ = _____

_____ + _____ = _____

_____ + _____ = _____

ADIÇÃO:



$6 + 2 = \underline{\quad}$ $5 + 5 = \underline{\quad}$ $5 + 0 = \underline{\quad}$

$8 + 3 = \underline{\quad}$ $4 + 4 = \underline{\quad}$ $6 + 6 = \underline{\quad}$

$9 + 2 = \underline{\quad}$ $9 + 0 = \underline{\quad}$ $3 + 3 = \underline{\quad}$

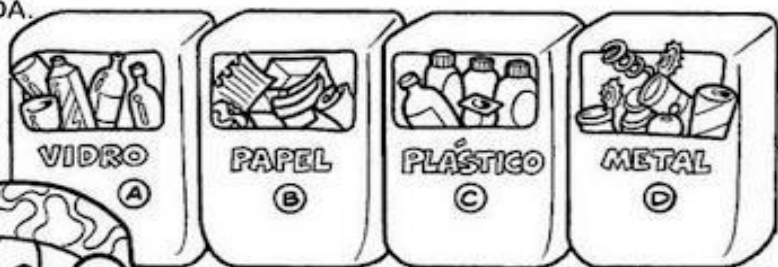


Meio Ambiente

Nome:

Atividade

1. OBSERVE A CENA E PINTe CORRETAMENTE DE ACORDO COM A LEGENDA.



-  PAPEL
-  PLÁSTICO
-  VIDRO
-  METAL

2. COM AJUDA DO ALFABETO MÓVEL ESCREVA A FRASE «SALVE O PLANETA!» E COLE NO QUADRO:


NOME: _____

DATA: _____

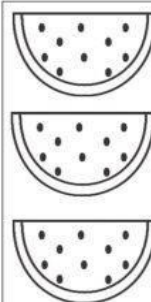
DESENHE PARA COMPLETAR A QUANTIDADE DOS NUMERAIS AO LADO, DEPOIS COPIE OS NOMES.



11
ONZE



15
QUINZE




13
TREZE

1- PROCURE E CIRCULE TODAS AS LETRAS R QUE ENCONTRAR ABAIXO



2- ESCREVA A LETRA INICIAL DE CADA DESENHO.




NOME: _____

COMPLETE A SEQUÊNCIA
NA ORDEM CRESCENTE




		3		
				10
16				

O BAIRRO



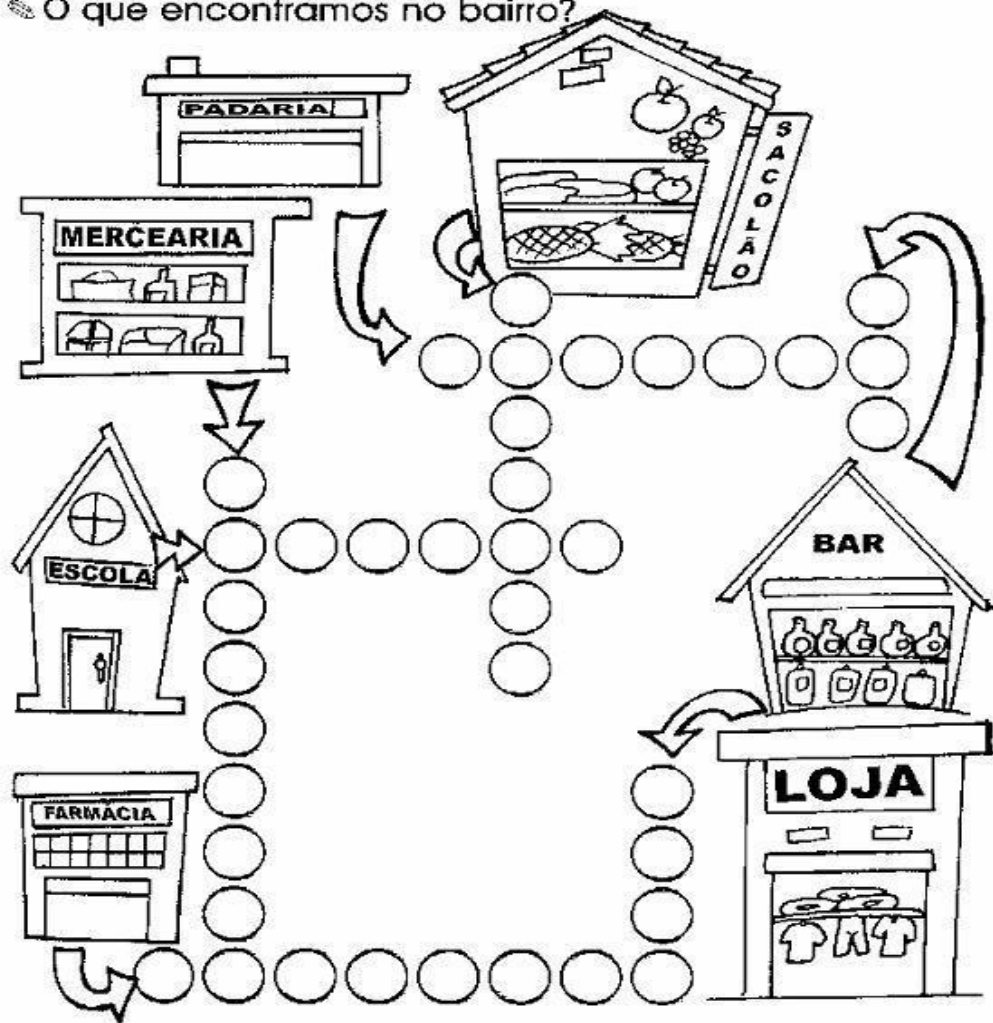
O BAIRRO É UMA PARTE DA CIDADE.
NOS BAIRROS HÁ CASAS, RUAS, PRAÇAS, PADARIAS, ESCOLAS, FAR-
MÁCIAS, E MUITAS OUTRAS COISAS.
E O SEU BAIRRO COMO É? REÚNA EM GRUPOS E CADA UM IRÁ
DESENHAR O LUGAR DO BAIRRO DE QUE MAIS GOSTA.



			4	
			14	
				30
				40

Crusã - Bairro

O que encontramos no bairro?



VAMOS OBSERVAR A SEQUÊNCIA NUMÉRICA:

0	1	2	3	4	5	6	7	8	9
---	---	---	---	---	---	---	---	---	---

QUAL É O NÚMERO QUE VEM ANTES?




<input type="text"/>	←	3
<input type="text"/>	←	6
<input type="text"/>	←	8
<input type="text"/>	←	2
<input type="text"/>	←	5
<input type="text"/>	←	7

QUAL É O NÚMERO QUE VEM DEPOIS?

1	→	<input type="text"/>
4	→	<input type="text"/>
3	→	<input type="text"/>
6	→	<input type="text"/>
5	→	<input type="text"/>
8	→	<input type="text"/>



COMPLETE AS PALAVRAS COM A LETRA R



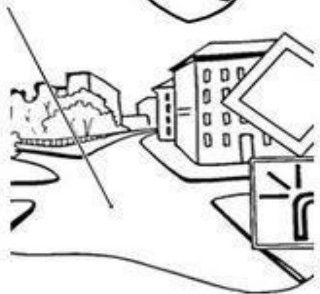
OBÔ



IO



ELÓGIO




UA



ATO

RESOLVA AS ADIÇÕES E DEPOIS PINTA DA MESMA COR, OS BALÕES CUJOS RESULTADOS SEJAM IGUAIS:



Aluno:

VAMOS NOS CONHECER MELHOR...

PREENCHA SUA FICHA



MEU PRIMEIRO NOME É:

EU TENHO ANOS.

O DIA DO MEU ANIVERSÁRIO É:



O TELEFONE DE MINHA CASA É:



O NÚMERO DA MINHA CASA É:

SITUAÇÃO PROBLEMA

MAGALI DESENHOU PARA SUA PROFESSORA 4 ABACAXIS E 3 MELANCIAS. QUANTAS FRUTAS ELA DESENHOU?



ROSINHA ENCONTROU UM NINHO COM 3 PASSARINHOS. CHEGARAM MAIS 6. QUANTOS PASSARINHOS TEM NO TOTAL?



NO SÍTIO DE CHICO BENTO TEM 5 GALINHAS E 3 VACAS. QUANTOS ANIMAIS ELE TEM AO TODO?



TRAVA - LÍNGUA

1- PROCURE E CIRCULE, TODAS AS PALAVRAS COMEÇADAS COM R



O RATO ROEU
A ROUPA DO REI
DE ROMA



2- AGORA COMPLETE O TEXTO COM AS PALAVRAS FALTOSAS:

O ROEU A ROUPA

DO DE

3- ESCREVA 3 PALAVRAS INICIADAS PELA LETRA R:

1. QUANTOS BOLINHOS MAGALI TEM NA BANDEJA?



O NÚMERO DE BOLINHOS
DE MAGALI CORRESPONDE
A UMA DEZENA

2. COMPLETE OS CONJUNTOS ATÉ
FORMAR 1 DEZENA:

2. DESENHE 2 DEZENAS DE BOLINHOS: